

1. Kokuyor toprağı ne kadar taze,
Rüzgârlar, elinde ipek yelpaze;
Koynunda gülleri var deste deste,
Ötüşüp duruyor serçe, güvercin.
Kırda kuzuların kulağı seste.
Yukarıdaki mısralarda hangi konu işlenmektedir?
- A) Doğa özlemi B) Baharın güzelliği
C) Hayvan sevgisi D) Toprağın bereketi
2. “Çocukların üçü de hemen işe koyuldular.” cümlesinde “koyuldular” kelimesinin yerine aşağıdakilerden hangisi getirilebilir?
- A) Giriştiler B) Gittiler
C) Koşuştular D) Oturdular
3. Aşağıdaki kelimeler, sözlükteki gibi sıralandığında hangisi en sonda yer alır?
- A) Tıraş B) Tırnak C) Tırmık D) Tırpan
4. “..... uygarlığa yoldur.” cümlesinde boş bırakılan yerlere, aşağıdaki kelime çiftlerinden hangisi getirilmelidir?
- A) Kitap - giden B) Teknik - atılan
C) İnsan - açılan D) Zenginlik - erişen
5. Bir ülke tahrip edilmiş, fakat umudu sağlam kalmış olursa sürdürülecek çalışmalarla yeniden güzel ve bayındır duruma gelebilir. Meselâ düşmanlar Anadolu’yu baştan başa yıktılsa da Türklerin ruhundaki bayındırlık umuduna dokunamadılar. Bundan dolayıdır ki, Anadolu bugün yaşıyor ve gelecekte de yaşayacaktır. Paragrafta vurgulanmak istenen aşağıdakilerden hangisidir?
- A) Anadolu’nun düşmanlar tarafından işgal edildiği
B) Bir ülkenin bayındırlık çalışmalarıyla güzelleştiği
C) Umudunu yitirmeyen milletlerin ayakta kaldığı
D) Anadolu’nun sonsuza kadar yaşatılması gerektiği
6. Aşağıdaki cümlelerin hangisinde belirtisiz isim tamlaması vardır?
- A) Sevgi çocukların gıdasıdır.
B) Dostlukların temeli sevgidir.
C) İnsanı, sevginin güzellikleri yaşatır.
D) Vatan sevgisi kutsaldır.
7. “Nice zorluklar sonucu elde ettiğimiz bir nimetten, gerektiği gibi yararlanmasını bilemedik.” diyen bir kişi için, aşağıdakilerden hangisi söylenebilir?
- A) Telâşlandığı B) Üzüldüğü
C) Öfkelenildiği D) Endişelendiği
8. Aşağıdaki kelimelerin hangisinde, hâl eki yoktur?
- A) Arabayı B) Öğrenciye
C) Börekçi D) Sokakta
9. Gelin tanış olalım,
İşi kolay kılalım,
Sevelim, sevilelim,
Dünya kimseye kalmaz.
Dörtlükten aşağıdakilerin hangisi çıkarılamaz?
- A) Dünyaya bağlanmak
B) Barış içinde yaşamak
C) İnsanları sevmek
D) Hoşgörülü davranmak
10. Aşağıdaki kelime çiftlerinden hangisi, aralarındaki anlam ilişkisi bakımından diğerlerinden farklıdır?
- A) Neşe - sevinç B) Küsmek - darılmak
C) Mat - parlak D) Hasret - özlem
11. Aşağıdakilerden hangisi atasözü değildir?
- A) Ev alma, komşu al.
B) Ne mutlu Türküm diyene!
C) Ne ekersen onu biçersin.
D) Bakarsan bağ olur, bakmazsan dağ olur.
12. Hangi cümledeki sıfat tamlaması, özne görevinde değildir?
- A) Şiddetli yağmur ürüne zarar verdi.
B) Ağaca birkaç kuş kondu.
C) Şu ağacı ben diktim.
D) Bazı öğrenciler bize geldiler.
13. Hangi mısradaki ulama vardır?
- A) Biz küçük fidanlar her gün dinleriz
B) Büyük ağaçların anlattığını...
C) Ferhat ve Şirin’i, Battal Gazi’yi,
D) Tilkinin kargayı aldattığını.

14. Hangi cümlede eylemin yapılış biçimini belirten sözcük vardır?

- A) Erol, oyunu bırakıp Ömer'e doğru koştu.
- B) Orhan, her zamanki gibi ilgimizi çekmeye çalışıyordu.
- C) Odamızı her zaman derli toplu tutmalıyız.
- D) Romandan her gün bir kaç sayfa okurum.

15. Aşağıdakilerden hangisi deyim değildir?

- A) Göze yasak olmaz.
- B) Gözünü dört açmak.
- C) Gözünün yaşına bakmamak.
- D) Gözden düşmek.

16. Öğrencilerin sınav kağıtlarını okuyorum. Çoğunda bir yığın bilgi var. Fakat konu ile ilgisi yok ve karmakarışık. Kompozisyon, işte bunların zıddıdır. Çeşitli konularda düzensiz bir yığın bilgiye sahip olmak yeterli değildir. Öğrenci, herhangi bir konuda gerekli ve gereksizi seçebilmeli, fikirlerini bir sıraya koymasını öğrenmelidir.

Paragrafın konusu aşağıdakilerden hangisi olabilir?

- A) Sınav kağıtları
- B) Kompozisyon
- C) Bilginin önemi
- D) Duygu ve düşünce

17. "Büyüme" kelimesi, aşağıdaki cümlelerin hangisinde "yetişme" anlamında kullanılmıştır?

- A) Şirketin sermayesi oldukça büyüdü.
- B) Dolabı kaldırıncaya sanki oda büyüdü.
- C) Şehrimiz kısa zamanda büyüdü.
- D) Fidanlar iki yılda büyüdü.

18. Hangi mısradaki yazım (imlâ) yanlışı vardır?

- A) Desteye gürüşmişim Kırkpınar'da.
- B) Durmuşum da yorgunluk çıkarmışım,
- C) Bir akşam vaktin de
- D) Dört bardak kıtlama çayla Erzurum'da...

19. Aşağıdaki cümlelerden hangisi, yüklemine göre diğerlerinden farklıdır?

- A) Soruların hepsini doğru cevapladım.
- B) Toplantıda ilk konuşma sırası benimdi.
- C) Arkadaşım bu hareketimi hiç beğenmedi.
- D) Sizleri salona girer girmez tanıdım.

20. "Barışın güvercini, savaşın kartalı... Yüksek yerlerde açan çiçeğim..." mısralarında yer alan aşağıdaki kelimelerin hangisinde, sert sessiz yumuşaması vardır?

- A) Barışın
- B) Güvercini
- C) Kartalı
- D) Çiçeğim

21. Aşağıdaki mısraların hangisinde topluluk ismi vardır?

- A) Tarih milletlere sınır çizeli,
- B) Dünyadaki toprakların güzeli,
- C) Üç tarafı deniz ile bezeli,
- D) Dağları var, ovası var, dili var.

22. "Kuru" kelimesi, aşağıdaki cümlelerin hangisinde mecaz anlamıyla kullanılmıştır?

- A) Arkadaşına bir avuç kuru üzüm verdi.
- B) Annem kuru ekmekleri çöpe atmaz.
- C) Rüzgâr, kuru yaprakları dağıttı.
- D) Eserin dilini çok kuru buldum.

23. Öğretmeniz, koşarız gece gündüz ışığa,
Dilimizde açılır bilgi, sanat çiçeği.
Sevgi dolu içimiz bu vatana, çocuğa,
Oya gibi işleriz aydınlık geleceği.

Dörtlükte, öğretmenlerin hangi özelliğinden söz edilmemiştir?

- A) İlme değer verme
- B) Vatansever olma
- C) Çalışkan olma
- D) Açık sözlü olma

24. Bir gün Sinan'ı birçok gençle birlikte yeniçeri olmak üzere hayalindeki şehre getirdiler. Onun bu büyük şehre duyduğu tarifsiz aşkı yazıyla anlatmak mümkün değildir. Bunu anlayabilmek için İstanbul'a bir kez bakmak gerek... Onu böyle büyük bir aşkla sevmeyen birisi İstanbul'u bu kadar güzelleştirebilir miydi? Sanki İstanbul kurulduğu günden bu yana Sinan'ı beklemiş gibiydi.

Parçada, Sinan'la ilgili olarak aşağıdakilerden hangisi söylenemez?

- A) İstanbul'u çok sevdiği
- B) Asker olduğu
- C) Çok güzel eserler verdiği
- D) İstanbul'un kurtuluşuna katıldığı

25. "Çok" kelimesi, aşağıdaki cümlelerin hangisinde "sıfat" olarak kullanılmıştır?

- A) Zayıflamak için çok uğraştı.
- B) Türkçeyi çok iyi öğrendi.
- C) Yarışmaya çok sporcu katıldı.
- D) Yola çok kalın çizgiler çizildi.

26. "Bu sorulardan hangisi daha zor?" cümlesindeki altı çizili kelimenin çeşidi nedir?

- A) Zamir
- B) Zarf
- C) Sıfat
- D) Edat

27. Aşağıdaki fiillerden hangisinin zamanı diğerlerinden farklıdır?

- A) Baktık B) Okuyorum
C) Doğdu D) Başladım

28. Aşağıdaki cümlelerin hangisinde bağlaç yoktur?

- A) Kitaplarını ve defterlerini çantasına yerleştirdi.
B) İsteklerine kavuştuyorsa da mutlu olamamıştı.
C) Sesi çok güzeldi, fakat belli etmezdi.
D) Kendisine gönderilenleri arkadaşı ile paylaşırdı.

29. Babamla annemin iki kabul oyuna karşı memlekete dönme teklifi altı oyla reddedildi. Anmem şaşkına dönmüştü. Demokrasiye sığmayan bir davranışla bizlere bağırды, çağırды. Babamı da çoluk çocuğun sözleriyle hareket etmekle suçladı. Hayrettir, babam sesini çıkarmadı, bir tepki göstermedi.

Parçaya göre demokrasi ile bağdaşmayan davranış, aşağıdakilerden hangisidir?

- A) Babanın oylama sonucunda tepkisiz kalması
B) Çocukların sözleriyle hareket edilmesi
C) Annenin çocuklarına yüksek sesle çıkışması
D) Memlekete dönme teklifinin kabul edilmemesi

30. Hangi kelimenin yapısı diğerlerinden farklıdır?

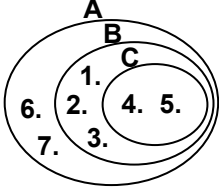
- A) Yamalık B) Balık
C) Taşlık D) Yurttaşlık

**TÜRKÇE TESTİ BİTTİ.
MATEMATİK TESTİNE GEÇİNİZ.**

1. $A=\{a,b,c,d,e,f\}$ ve $B=\{\square,\triangle,\circ,\square,\triangle,\theta\}$ kümeleri veriliyor. Aşağıdakilerden hangisi doğrudur?

A) $A \equiv B$ B) $A=B$ C) $A \subset B$ D) $B \subset A$

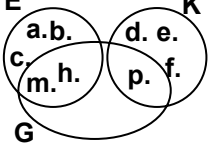
2.



Şemaya göre, $(A \cap B) \cap C$ kümesi aşağıdakilerden hangisidir?

A) $\{4,6,7\}$ B) $\{1,2,3,6\}$ C) $\{4,5\}$ D) $\{4,6\}$

3. E



Verilen şemada, K kız öğrencilerin kümesini, E erkek öğrencilerin kümesini ve G gözlüklü öğrencilerin kümesini göstermektedir. Buna göre, aşağıdakilerden hangisi doğrudur?

- A) h; gözlüksüz erkek öğrencidir.
B) p; gözlüklü kız öğrencidir.
C) b; gözlüklü erkek öğrencidir.
D) f; gözlüklü kız öğrencidir.

4. Okunuşu, "iki milyar yüz kırk iki milyon üç yüz altı bin dört yüz seksen bir" olan sayı hangisidir?

A) 2142306481 B) 2140236481
C) 2142316481 D) 2142364801

5. 3 kitap ile 2 defterin fiyatı 210 000 lira ve 2 kitap ile 3 defterin fiyatı 190 000 liradır. Buna göre, bir kitap ile bir defterin fiyatı kaç liradır?

A) 30 000 B) 50 000 C) 80 000 D) 120 000

6. a ve b birer rakam olmak üzere, $\begin{array}{r} A \overline{) ab} \\ \underline{-} 101 \\ 0 \end{array}$

işleminde A sayısı hangisidir?

A) abab B) ab0a C) a00b D) a0bb

7. 68ba sayısının hem 2, hem de 5 ile tam bölünebilmesi için $a+b$ nin alabileceği en büyük değer kaçtır?

A) 5 B) 7 C) 9 D) 14

8. Üç kardeşin yaşları, ardışık çift doğal sayılar olup toplamı 42 dir. Büyük kardeşin yaşı, 5 yıl sonra annesinin evlenme yaşı olacağına göre, annesi kaç yaşında evlenmiştir?

A) 17 B) 18 C) 19 D) 21

9. Aşağıdaki sıralamalardan hangisi doğrudur?

A) $\frac{13}{7} < \frac{4}{9} < \frac{5}{4}$

B) $\frac{5}{4} < \frac{4}{9} < \frac{13}{7}$

C) $\frac{5}{4} < \frac{13}{7} < \frac{4}{9}$

D) $\frac{4}{9} < \frac{5}{4} < \frac{13}{7}$

10. Hangi sayının, $\frac{2}{3}$ ünün $\frac{3}{4}$ ü 200 ile çarpıldığında 400 elde edilir?

A) 2 B) 4 C) 6 D) 8

11. $(3\frac{2}{5} - \frac{9}{10}) : (4\frac{2}{3} \times \frac{9}{4})$ işleminin sonucu kaçtır?

A) 5 B) $\frac{21}{20}$ C) 1 D) $\frac{5}{21}$

12. Bir adam, parasının önce $\frac{1}{2}$ sini, sonra da

kalan parasının $\frac{1}{2}$ sini harcıyor. Geriye 5000 lirası kaldığına göre, adamın başlangıçtaki parası kaç liraydı?

A) 20000 B) 18000 C) 16000 D) 14000

13. $\frac{378}{125} - 2,28$ işleminin sonucu kaçtır?

A) 0,744 B) 0,844 C) 0,96 D) 1,74

14. $0,01 + \frac{0,002}{0,1} + \frac{0,001}{0,01}$ işleminin sonucu aşağıdakilerden hangisidir?

A) 0,05 B) 0,09 C) 0,11 D) 0,13

15. $(\frac{1,21}{0,11} - \frac{1,25}{0,25}) + \frac{2,7}{0,09}$ işleminin sonucu kaçtır?

A) 5,2 B) 8,9 C) 21 D) 36

16. Ayşe, 2,5 saatte 125 kg portakal topluyor. Günde 6 saat çalışarak 3600 kg portakalı kaç günde toplar?

A) 10 B) 11 C) 12 D) 13

17. İki sayının aritmetik ortalaması 42 dir. Bu iki sayı arasındaki fark 12 olduğuna göre, büyük sayı kaçtır?

A) 36 B) 38 C) 46 D) 48

18. 20 kg su ile 5 kg tuz karıştırılıyor. Bu karışımın yüzde kaç tuzdur?

A) 5 B) 15 C) 20 D) 25

19. $\frac{1}{4}$ ü peşin, kalanı 8 eşit taksitle mal alan bir

kişi, taksit olarak ayda 1 125 000 lira ödeyecektir. Bu mal için peşin ödenen miktar kaç liradır?

A) 1 750 000 B) 2 000 000
C) 3 000 000 D) 3 500 000

20. Yıllık %40 faizle bankaya yatırılan 1000000 lira, kaç ayda 100000 lira faiz getirir?

A) 2 B) 3 C) 5 D) 6


21. İki şehirden karşılıklı hareket eden iki otobüsten birinin saatteki hızı 80 km, diğerinin ki 90 km dir. 2,5 saat sonra iki araç arasında 75 km mesafe kaldığına göre, bu iki şehir arasındaki uzaklık kaç km dir?

A) 425 B) 500 C) 575 D) 600

22. 10 saniyede ortalama 10 m yol giden bir bisikletli, 18 km yolu kaç saatte gider?

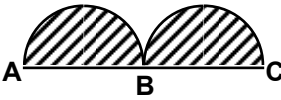
A) 6 B) 5 C) 4 D) 3

23. Verilen daire grafiğine göre, kıraç arazi 60 hektar ise, ekili arazi kaç hektardır?



A) 120 B) 140 C) 160 D) 180

24. Şekildeki AB ve BC çaplı iki yarım daire birbirine eştir. Taralı bölgelerin alanları toplamı 75 cm^2 ise, taralı bölgelerin çevrelerinin toplamı kaç cm dir? ($\pi=3$ alınınız.)

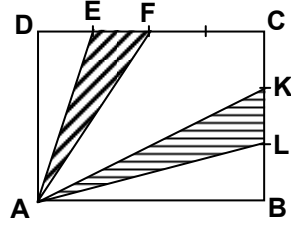


A) 90 B) 40 C) 50 D) 60

25. Bir kare ile bir dikdörtgenin çevrelerinin uzunlukları eşittir. Karenin alanı 16 cm^2 olduğuna göre, dikdörtgenin alanı aşağıdakilerden hangisi olamaz?

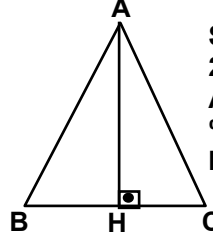
A) 18 B) 15 C) 12 D) 7

26. Şekildeki ABCD dikdörtgeninin DC kenarı dört eş parçaya, BC kenarı üç eş parçaya ayrılmıştır. AEF üçgeninin alanı 9 cm^2 ise, KAL üçgeninin alanı kaç cm^2 dir?



A) 9 B) 10 C) 11 D) 12

27. Şekildeki ABC üçgeninin alanı 24 cm^2 dir. BC kenarının ve AH yüksekliğinin uzunlukları %50 daha kısa olsaydı, alanı kaç cm^2 olurdu?



A) 6 B) 8 C) 12 D) 16

28. Yanal alanı 180 cm^2 ve taban alanı 75 cm^2 olan silindirin hacmi kaç cm^3 tür? ($\pi=3$ alınınız.)

A) 300 B) 375 C) 450 D) 525

29. Eni 5 cm, boyu 4 cm ve yüksekliği 7 cm olan dikdörtgenler prizmasının bütün alanı kaç cm^2 dir?

A) 172 B) 166 C) 162 D) 154

30. Çapı 8 cm ve yüksekliği, çapının $\frac{3}{2}$ katı olan silindirin yanıl alanı kaç cm^2 dir? ($\pi=3$ alınınız.)

A) 262 B) 288 C) 432 D) 576

MATEMATİK TESTİ BİTTİ
FEN GRUBU TESTİNE GEÇİNİZ.

1. Aşağıdakilerden hangileri çevreyi olumsuz etkiler?

- I- Havada, karbonmonoksit miktarının artması
II- Araba egzozundan çıkan gazların havaya karışması
III- Lağım sularının açıktan akıtılması

- A) Yalnız III B) I-II
C) I-III D) I-II-III

2. Yüksekten bırakılan bir taşın, enerji dönüşümü hangisinde verilmiştir?

- A) Potansiyel enerji → Kinetik enerji
B) Isı enerjisi → Kinetik enerji
C) Kinetik enerji → Potansiyel enerji
D) Isı enerjisi → Potansiyel enerji

3. Aşağıdakilerden hangisi saf maddedir?

- A) Hava B) Su C) Gazoz D) Ayran

4. Hangisinde verilen madde su ile karıştırıldığında çözelti oluşturmaz?

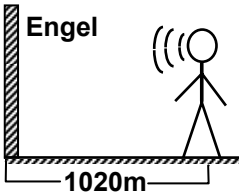
- A) Şeker B) Oksijen
C) Zeytinyağı D) Alkol

5. Karışımlarla ilgili aşağıdaki bilgilerden hangisi yanlıştır?

- A) Bileşenlerinin oranı sabit değildir.
B) Basit yöntemlerle ayrılabilirler.
C) En az iki maddeden oluşurlar.
D) Her zaman homojendirler.

6. Aşağıdaki bilgilerden hangisi yanlıştır?

- A) Ses her ortamda aynı hızla yayılır.
B) Esnek cisimler ses dalgalarını iletir.
C) Ses iş yapabilme yeteneğine sahiptir.
D) Havada titreşen her madde ses meydana getirir.

7.  Kendisinden 1020 m uzakta bulunan engele doğru şekildeki gibi bağıran çocuk sesinin yankısını kaç saniye sonra duyar? (Sesin yayılma hızı 340 m/s)

- A) 1,5 B) 3 C) 6 D) 9

8. Gürültülü ortamlarda çalışan insanlarda

aşağıdakilerden hangilerinin olması beklenir?

- I- Ruhsal gerginliğin
II- Geçici veya kalıcı sağırliğin
III- Yüksek sesle konuşma alışkanlığının

- A) Yalnız I B) I-II C) II-III D) I-II-III

9. Su içindeki bir cismin daha büyük ve yakın görülmesinin sebebi aşağıdakilerden hangisidir?

- A) Işığın doğrusal yolla yayılması
B) Işığın su tarafından soğurulması
C) Işığın kırılarak doğrultu değiştirmesi
D) Işığın su yüzeyinden yansması

10. Aşağıdakilerden hangilerinin yapısında mercek bulunur?

- I- Fotoğraf makinesinin
II- Teleskobun
III- Mikroskobun

- A) I-II B) I-III C) II-III D) I-II-III

11. Aşağıdakilerden hangisi gözün yardımcı organlarından değildir?

- A) Kirpik B) Göz merceği
C) Göz kapağı D) Gözyaşı bezi

12. Boşaltım sisteminde yer alan organımız hangisidir?

- A) Kalp B) Böbrek
C) Akciğer D) Karaciğer

13. Aşağıdaki kemikler şekillerine göre gruplandırıldığında hangisi bu grubun dışında kalır?

- A) Kürek kemiği B) Pazı kemiği
C) Kaval kemiği D) Ön kol kemiği

14. Karbonhidratlı besin maddeleri gereğinden fazla yenildiğinde aşağıdaki durumlardan hangisi görülür?

- A) Vücut sıcaklığının artması
B) Besinlerin daha iyi sindirilmesi
C) Vücudun daha fazla enerji harcaması
D) Vücutta depolanan besin miktarının artması

15. Aşağıdakilerden hangisi dişimizdeki mine tabakasının özelliği değildir?

- A) Dişi korumak
B) Sert yapıda olmak
C) Diş kökünü örtmek
D) Taç kısmında bulunmak

16. Aşağıdakilerden hangisi kanın görevlerinden değildir?
- A) Hücrelerden artık maddeleri uzaklaştırma
B) Vücudun dengesini sağlama
C) Hücrelere besin taşıma
D) Vücut ısısını ayarlama
17. Aşağıdakilerden hangisi göğüs boşluğunda bulunur?
- A) Karaciğer B) Akciğer
C) Mide D) Böbrek
18. Balıklarda aşağıdakilerden hangisi görülmez?
- A) Tatlı suda yaşama
B) Tuzlu suda yaşama
C) Omurgasız olma
D) Yumurta ile çoğalma
19. Kopan kuyruğunu yenileme özelliği olan hayvan hangisidir?
- A) Kertenkele B) Kaplumbağa
C) Timsah D) Yılan
20. Aşağıdakilerden hangisi hem et, hem de otla beslenir?
- A) Ayı B) Kurt C) Tilki D) Kaplan

FEN GRUBU TESTİ BİTTİ.
SOSYAL GRUBU TESTİNE GEÇİNİZ.

SOSYAL GRUBU TESTİ

DPY 5. SINIF

1. Türk ulusunun bireyleri olarak;

• Başkalarının bizden farklı düşünebileceğini

kabul etmek

- Herkesin bizim gibi davranmak zorunda olmadıklarının bilincinde olmak.

Türk ulusunun hangi özelliğinden kaynaklanmaktadır?

- A) Yardımseverliğinden
- B) Hoşgörülü oluşundan
- C) Konukseverliğinden
- D) Cesaretinden

2. Millet olarak, Atatürk ilke ve inkılâpları doğrultusunda yükselmeyi ve ileri gitmeyi amaçlamamız, ulusu meydana getiren öğelerden hangisiyle açıklanır?

- A) Tarih birliği
- B) Kültür birliği
- C) Ülkü birliği
- D) Dil birliği

3. Atatürk, Sivas'ta millî bir kongrenin toplanacağını ilk defa nerede duyurmuştur?

- A) Samsun'da
- B) Amasya'da
- C) Erzurum'da
- D) Havza'da

4. Kurtuluş Savaşı'nda, TBMM Hükümeti aşağıdaki antlaşmalardan hangisini Fransa ile yapmıştır?

- A) Gümrü
- B) Ankara
- C) Kars
- D) Moskova

5. Lozan Konferansı'na TBMM'nin yanında Osmanlı Hükümeti'nin de çağırılması, aşağıdakilerden hangisini gündeme getirmiştir?

- A) Cumhuriyetin ilânını
- B) Saltanatın kaldırılmasını
- C) Hilâfetin kaldırılmasını
- D) Sevr Antlaşması'nın reddedilmesini

6. Aşağıdakilerden hangisi, İzmir İktisat Kongresi'nde ele alınan konular arasında yer almaz?

- A) Tarım
- B) Ticaret
- C) Eğitim
- D) Sanayi

7. Aşağıdakilerden hangisi, Atatürk'ün çağdaşlaşma anlayışına uygun değildir?

- A) İlmî gelişmeleri takip etmek
- B) En doğru hukuk kurallarını benimsemek
- C) Yaşanılan çağın gereklerine uymak
- D) Her bakımdan Avrupa'ya benzemek

8. Atatürk, Türk milletine kurtuluş yolunu göstermiş ve milletle beraber, milletin gücüyle

her engeli aşmıştır.

Bu durum, O'nun daha çok hangi özelliğini gösterir?

- A) Önder oluşu
- B) İleri görüşlülüğü
- C) Açık sözlülüğü
- D) Öğreticilik yönü

9. Aşağıdakilerden hangisi, Atatürk ilke ve inkılâplarının dayandığı temel esaslar arasında yer almaz?

- A) Millî tarih bilincinin uyandırılması
- B) Millî kültürün geliştirilmeye çalışılması
- C) Tarım alanlarının devlet tarafından işletilmesi
- D) Egemenliğin millete ait olduğunun benimsenmesi

10. Aşağıdaki plâtolardan hangisi İç Anadolu Bölgesi'nde yer almaz?

- A) Taşeli
- B) Obruk
- C) Bozok
- D) Uzunyayla

11. I- Bol akarsularla beslenmesi
II- Dağların dik yamaçlı ve kıyıya paralel uzanması
III- Girinti ve çıkıntıların az olması
IV- Yağışın çok, buharlaşmanın az olması
Yukarıdakilerden hangileri Karadeniz'in tuzluluk oranının azalmasında etkili olmuştur?

- A) I-II
- B) II-III
- C) II-IV
- D) I-IV

12. Ülkemizin üç tarafının denizlerle çevrili olması, aşağıdakilerden hangisi üzerinde etkili olmamıştır?

- A) İklimin çeşitlenmesinde
- B) Ormanların dağılışında
- C) Yer altı kaynaklarının zenginleşmesinde
- D) Turizm etkinliklerinde

13. I- Kış mevsiminde bol yağış alır
II- Suları tuzludur
III- Yaz mevsiminde buharlaşma yüksektir
Yukarıdaki özellikler aşağıdaki denizlerimizden hangisine aittir?

- A) Karadeniz
- B) Akdeniz
- C) Ege
- D) Marmara

14. Karadeniz Bölgesi'ndeki akarsulardan hangisi, sınırlarımız dışında denize ulaşır?

- A) Çoruh Nehri
- B) Yenice Çayı
- C) Yeşilirmak
- D) Kızılırmak

15. Aşağıdaki coğrafi bölgelerimizden hangisinin

yıllık yağış ortalaması en düşüktür?

SOSYAL GRUBU TESTİ

DPY 5. SINIF

A) Doğu Anadolu
C) İç Anadolu

B) Güneydoğu Anadolu
D) Marmara

DİN KÜLTÜRÜ ve AHLAK BİLGİSİ DERSİ OKUYANLAR AŞAĞIDAKİ SORULARI CEVAPLAYACAKLAR. OKUMAYANLAR BUNUN YERİNE, AYNI NUMARALI SOSYAL BİLGİLER SORULARINI CEVAPLAYACAKLAR.

16. Kıyamet günü Sûr'a üfleme hangi meleğin görevidir?
A) Cebrail B) İsrail C) Mikâil D) Azrail
17. Zebur ile ilgili aşağıdakilerden hangisi doğrudur?
A) Hz. Musa'ya indirilmiştir.
B) Hz. Davut'a indirilmiştir.
C) Hiç değişmeden günümüze kadar gelmiştir.
D) İncil'den sonra gönderilmiştir.
18. Kendisine kutsal kitap inen son peygamber hangisidir?
A) Hz. Davut B) Hz. Musa
C) Hz. İsa D) Hz. Muhammet
19. Dinimize göre inananların ahiret mutluluğuna ebedî kavuşacakları yerin adı hangisidir?
A) Cennet B) Kıyamet
C) Kabir D) Mahşer
20. Hangisi, islâm ahlakıyla bağdaşmaz?
A) Bilimsel çalışmalar yapmak
B) Yoksullara yardım etmek
C) Geçimini sağlamak için çalışmak
D) Malını, gösteriş amacıyla harcamak

DİN KÜLTÜRÜ ve AHLAK BİLGİSİ DERSİ OKUMAYANLAR, AŞAĞIDAKİ SOSYAL BİLGİLER SORULARINA CEVAP VERECEKLER. OKUYANLAR CEVAP VERMEYECEK.

16. Türk ulusunun bütün bireylerinin;
• Türk bayrağına sevgi ve saygı duymaları
• İstiklâl Marşı'yla bağımsızlık tutkusunu dile getirmeleri
• Ulusal bayramları heyecanla kutlamaları
aşağıdakilerin hangisinden kaynaklanmaktadır?
A) Çalışkan olmalarından
B) Millî birlik ve beraberlik duygusundan
C) Hoşgörülü olmalarından
D) Cesur olmalarından
17. I- Kars Antlaşması
II- Gümrü Antlaşması
III- Moskova Antlaşması
IV- Ankara Antlaşması
Yukarıdaki antlaşmalardan hangileri, Sakarya

Savaşı'ndan sonra imzalanmıştır?

A) I-II B) I-IV C) II-III D) II-IV

18. Devlet yönetiminde ve siyasette din kurallarına yer verilmemesi, Atatürk'ün hangi ilkesi ile sağlanmıştır?
A) İnkılâpçılık B) Devletçilik
C) Milliyetçilik D) Lâiklik
19. Aşağıdaki volkanik dağlardan hangisi, Doğu Anadolu Bölgesi'ndedir?
A) Süphan B) Erciyes
C) Karacadağ D) Melendiz
20. Kara ikliminin en belirgin özelliği, aşağıda verilen bölge çiftlerinden hangisinde görülmektedir?
A) Ege-İç Anadolu
B) Karadeniz-Doğu Anadolu
C) Güneydoğu Anadolu-Akdeniz
D) Doğu Anadolu-İç Anadolu

**TEST BİTTİ.
CEVAPLARINIZI KONTROL EDİNİZ.**

