

TÜRKÇE TESTİ

1. Aşağıdaki cümlelerden hangisi duygu bildir-
mektedir?
- A) Bu ay iki kitap daha aldım.
B) Annemle birlikte pazara gittik.
C) Kardeşim okula geçen yıl başladı.
D) Köyde güzel bir gün geçirdik.
2. “Kazanmak” sözcüğü, hangi cümlede, “kendin-
den yana çekmek” anlamında kullanılmıştır?
- A) Bu dükkân iyi kazanıyor.
B) Bizim takım birincilik kazandı.
C) Dürüstlüğüyle yeni dostlar kazandı.
D) Okumak, insana bilgi kazandırır.
3. Bebekler, çiçeği insanlığımızın,
Güllerin en hası, en goncası,
Sarışın bir ışık parçası kimi,
Kimi kapkara üzüm tanesi.
Dörtlükte, bebeklerle ilgili olarak, aşağıdaki-
lerden hangisine değînilmemiştir?
- A) İnsanların en değerli varlıkları olduklarına
B) Güzel ve sevimli olduklarına
C) Aynı derecede şanslı olduklarına
D) Gül goncasına benzediklerine
4. Teyzem yeter ki istesin, elinden her iş gelir.
Bu cümlede kişinin hangi özelliği vurgulanmıştır?
- A) Sabırlı olma B) Akıllı olma
C) Çalışkan olma D) Becerikli olma
5. Mevsimler özelliklerini yitirmiş, sıcaklık artmış,
yağışlar yok denecek kadar azalmıştı. Âdeta ta-
biatın damarlarında dolaşan kanı çekilmişti.
Hayvanlar, su bulmak ümidiyle, boş yere ordan
oraya göçüyor, yok olup gidiyorlardı.
Parçada, asıl anlatılmak istenen aşağıdakilerden
hangisidir?
- A) Sıcaklığın artması
B) Doğal dengenin bozulması
C) Yağışların yetersizliği
D) Hayvanların göç etmesi
6. “Bazen tüm çabalar, uğraşlar sonuç vermiyor.”
cümlesiyle benzer anlamda olan aşağıdakilerden
hangisidir?
- A) Olumlu sonuç almak, çok çalışmayı gerektirir.
B) İnsan her zaman güzel sona ulaşamayabilir.
C) Sana verdiğim bunca emek boşa gitti.
D) Bazen sonuca ulaşmak zaman alabilir.
7. “Kendi” sözcüğü, hangi cümlede deyim için-
de yer almamıştır?
- A) Ahmet, kendi halinde bir çocuktuk.
B) Bu işe kendini iyice alıştırmalısın.
C) O her zaman kendini ağır satar.
D) Kendine geldiğinde hiçbir şey hatırlamıyordu.
8. Alçak gönüllü olmak, kendi gücümüzün sınırla-
rını bilmeyi, yani “ayağımızı yorganımıza göre
uzatmayı” öğretir. Hem de başkalarının hatala-
rına karşı hoşgörülü olmayı sağlar.
Paragrafa göre, aşağıdakilerden hangisi al-
çak gönüllü kişiye uygun düşmez?
- A) Ölçülü olmak B) Anlayışlı olmak
C) Gerçekçi olmak D) Girişken olmak
9. Sevda, çocuğu okuldan eve getirdi.
Bu cümlede, aşağıdaki hâl eklerinden hangisi
yoktur?
- A) -den B) -e C) -de D) -i
10. Sabahleyin güler yüzle hatırımızı soran, içten
gelerek selâmımızı alan, otobüste yaşlılara
yerini veren kişi için, aşağıdakilerden hangisi
söylenbilir?
- A) Uysal B) Nazik C) Vefalı D) Meraklı
11. Sevgiyle büyür bütün çocuklar,
Ben çocuklarla büyüyorum.
Yarı çıplaksa eğer çocuklar sokaklarda,
Olmaz olsun ipekler oyuncaklar diyorum.
Y.Bülent Bakiler
Şair için aşağıdakilerden hangisi söylenemez?
- A) Çocukları sevdiği
B) Sevgiye inandığı
C) Duyarlı olduğu
D) Oyuncakları özlediği
12. Aşağıdaki cümlelerden hangisi özne ve yük-
lemden oluşmuştur?
- A) Büyük bir istekle işe başladı.
B) Dünkü fırtınada üç gemi battı.
C) Yol boyundaki ağaçlar kurudu.
D) Bu haberden çok etkilendik.
13. Aşağıdakilerden hangisi, “Kişi davranışlarına
göre karşılık bulur.” düşüncesini desteklemez?
- A) Herkes ne ederse kendine eder.
B) Ne ekersen onu biçersin.
C) Herkes bildiğini okur.
D) İyilik eden iyilik bulur.

TÜRKÇE TESTİ

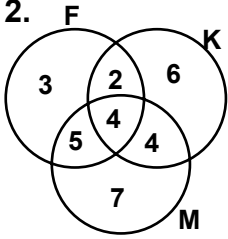
14. Öfke ve kin doğruluğun sınırları dışındadır. Bu tutkular yalnız, işlerine akıllarıyla bağlanmayan insanların işlerine yarar. Doğru ve temiz işler, hep ölçülü ve ağırbaşlıdır. Ölçü olmayan yerde kavga, gürültü, haksızlık vardır. Paragrafta vurgulanan aşağıdakilerden hangisidir?
- A) Nefret etmenin zararlı olduğu
B) Haksızlığın doğurduğu olumsuzluklar
C) Davranışlarda ölçülü olunması gerektiği
D) Akıllı insanların özellikleri
15. “Bana verilen bir sırrı kutsal bir emanet gibi saklarım; ama sırları elimden geldiği kadar bilmemeye çalışırım.” diyen bir insan için, aşağıdakilerden hangisi söylenemez?
- A) Sır saklamaktan pişmanlık duyduğu
B) Güvenilir biri olduğu
C) Sır saklamanın gereğine inandığı
D) Gizli tutulan şeyleri öğrenmek istemediği
16. Aşağıdaki tamlamalardan hangisinin tamlayanı anlamca pekiştirilmiştir?
- A) İpince tel
B) Mavimsi elbise
C) Büyücek ev
D) Genişçe yol
17. “Öğretmenler bir en fedakâr kişileridir.” cümlesinde boş bırakılan yere, aşağıdaki sözcüklerden hangisi getirilemez?
- A) devrin
B) ülkenin
C) toplumun
D) milletin
18. Hangi cümlede karşılaştırma yapılmamıştır?
- A) Ahmet de babası gibi çok çalışkandır.
B) İşini bugün daha çabuk bitirdi.
C) Ne yapacağına karar verememişti.
D) Çocuklar, çiçekler gibi narindirler.
19. Aşağıdakilerin hangisinde sıfat tamlaması vardır?
- A) Tanıdığım tek ağaç var,
B) Etlik bağlarına yakın.
C) Saadetin adını bile duymamış,
D) Allah'ın işine bakın.
20. Aşağıdaki sözcüklerden hangisi, çekim eki almamıştır?
- A) Çizgisiz
B) Sokakta
C) Kırları
D) Benim
21. “Yangını söndürmek için olağanüstü bir çaba gerekir.” cümlesinin tümlecini bulmak için, yükleme, aşağıdaki sorulardan hangisi sorulmalıdır?
- A) Ne? B) Neyi? C) Nasıl? D) Niçin?
22. Aşağıdaki sözcüklerin hangisinde, ünlü düşmesi yoktur?
- A) Bağrında
B) Burunları
C) Alnına
D) Karnını
23. “Kim bu cennet vatanın uğruna olmaz ki fedâ?” dizesinde kaç yerde ulama vardır?
- A) 1 B) 2 C) 3 D) 4
24. Aşağıdaki sözcüklerin hangisinde, sert sesiz yumuşaması vardır?
- A) Aşağıdaki
B) Saçlarını
C) Yakalığını
D) Öğrenciyi
25. Aşağıdakilerden hangisi fiil cümlesidir?
- A) Gezdiğim yerlerde umduğum kalabalık yoktu.
B) Tanıdık kimseleri pek göremedim bu tatilde.
C) Tatil köyleri çoğunlukla denize uzaktı.
D) Sahil taş yığınlarıyla doluydu.
26. Aşağıdakilerden hangisi, topluluk ismi değildir?
- A) Bölük B) Vatan C) Aile D) Sürü
27. Aşağıdaki cümlelerin hangisinde “sert ünsüz benzeşmesine” örnek bir sözcük yoktur?
- A) Sokakta kaldı.
B) Kitabını aldı.
C) Simitçi geldi.
D) Evde çalıştı.
28. Hangi cümlede zamir yoktur?
- A) Geçen yıl seninle Ankara'da görüşmüştük.
B) Artık, burada kendimize de bir ev yapalım.
C) Onlar, İstiklâl Savaşı'nın kahramanlarıdır.
D) Acaba şu adam otobüse mi binecek?
29. Hangi seçenekteki pekiştirilmiş sözcüğün çeşidi diğerlerinden farklıdır?
- A) Araba ile karşılaşınca yüzü sapsarı kesildi.
B) Simsiyah saçları alnını kapatmıştı.
C) Kıpırmızı elmaları çeşmede yıkadık.
D) Fırından sımsıcak bir ekme aldık.
30. Aşağıdakilerden hangisi, birleşik isim değildir?
- A) Akbaba
B) Kahveci
C) Akdeniz
D) Kabadayı

TÜRKÇE TESTİ BİTTİ.
MATEMATİK TESTİNE GEÇİNİZ.

MATEMATİK TESTİ

1. $A=\{0,1,2,3,4,5,6,7,8,9\}$ ve $B=\{1,3,5,7,9,11,13\}$ kümeleri veriliyor. Aşağıdakilerden hangisi $A \cap B$ kümesinin bir alt kümesidir?

- A) $\{1,3,5,7,9,11,13\}$ B) $\{1,2,3\}$
C) $\{1,3,5,7\}$ D) $\{1,2,3,4,5\}$

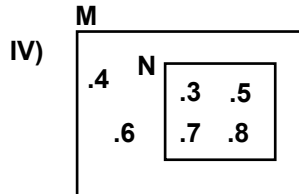
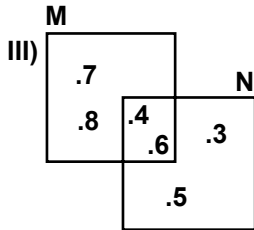
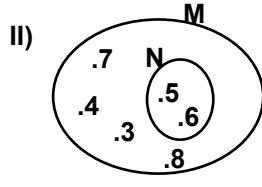
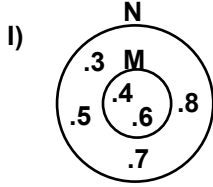


Şemada; F, K ve M kümeleri, sırasıyla bir okuldaki flüt, keman ve mandolin çalan öğrencilerin kümesini göstermektedir. Şemadaki sayılar, kümelerin eleman sayıları olduğuna göre, aşağıdakilerden kaç tanesi doğrudur?

- I- Flüt çalamayanların sayısı 17 dir.
II- Keman ve mandolin çalanların sayısı 4 tür.
III- Yalnız mandolin çalanların sayısı 7 dir.
IV- Flüt veya mandolin çalamayanların sayısı 6 dir.

- A) 1 B) 2 C) 3 D) 4

3. $M \cap N = \{4,6\}$ ve $M \cup N = \{3,4,5,6,7,8\}$ ise, aşağıdaki şemalardan hangileri M ve N kümelerinin gösterimi olamaz?



- A) I ve III B) II ve III C) I ve IV D) II ve IV

4. 812403224 sayısının milyonlar bölümündeki rakamların sayı değerleri toplamından binler bölümündeki rakamların sayı değerleri toplamı çıkarılırsa, fark kaç olur?

- A) 1 B) 2 C) 3 D) 4

5. Aşağıdaki sıralamalardan hangisi doğrudur?

- A) 730 482 011 < 730 842 110 < 703 482 101
B) 700 348 211 < 703 482 101 < 730 482 011
C) 703 482 101 < 700 348 211 < 730 482 011
D) 730 842 110 < 730 482 011 < 703 482 101

6. ab iki basamaklı bir sayı olmak üzere, $ab, ab \overline{)ab}$ işleminde bölüm kaçtır?

- A) 1,01 B) 1,1 C) 0,11 D) 10,1

7. $3000:100=30$
 $30 \times 60=1800$

Verilen işlemler aşağıdaki problemlerden hangisinin çözümüdür?

- A) Tanesi 60 TL olan sakızın 3000 tanesi kaç lira eder?
B) 60 tanesi 3000 TL olan yumurtaların 100 tanesi kaç lira eder?
C) 30 tanesi 3000 TL olan kalemlerin 60 tanesi kaç lira eder?
D) Metresi 3000 TL olan telin 60 cm si kaç lira eder?

8. Ardışık üç doğal sayının toplamı 246 dir. Bu sayıların en küçüğü ile en büyüğünün toplamı kaç olur?

- A) 143 B) 164 C) 172 D) 194

9. Bir doğal sayı 18 ile bölündüğünde bölüm 25 ise, bölünen sayı aşağıdakilerin hangisinden küçük olamaz?

- A) 450 B) 453 C) 460 D) 468

10. Toplamları 81 olan ardışık doğal sayıların en büyüğü ile en küçüğü arasındaki fark 5 tir. Bu sayıların en büyüğü kaçtır?

- A) 16 B) 15 C) 14 D) 13

11. Babası 43, oğlu 9 yaşındadır. Kaç yıl sonra babasının yaşı oğlunun yaşının 3 katı olur?

- A) 6 B) 7 C) 8 D) 9

12. 5 metrelik mesafeyi 5 saniyede koşan bir sporcu, 7,2 kilometrelik yolu aynı hızla kaç saatte koşar?

- A) 2 B) 2,5 C) 3 D) 3,5

13. İki sayının toplamı 68, farkı 10 dur. Aşağıdaki işlemlerden hangisinin sonucu küçük sayıya eşittir?

- A) $\frac{68+10}{2}$ B) $\frac{68-10}{2}$
C) $\frac{68}{2}+10$ D) $\frac{68}{2}-10$

MATEMATİK TESTİ

14. 8 tane gül ile 4 tane karanfil için 5 000 000 TL ödenmiştir. 44 tane gül ile 22 tane karanfil için kaç lira ödenir?

A) 22 500 000 B) 25 000 000
C) 27 500 000 D) 30 000 000

15. Ali, bir kitabın önce yarısını, daha sonra da kalan kısmının $\frac{2}{3}$ 'ünü okuyor. Geriye okumadığı 30 sayfa kaldığına göre, kitabın tamamı kaç sayfadır?

A) 150 B) 160 C) 170 D) 180

16. $\frac{11}{15}$ kesri, sayı doğrusu üzerinde hangi iki kesir arasındadır?

A) $\frac{3}{5}$ ile $\frac{4}{5}$ B) $\frac{1}{2}$ ile $\frac{3}{5}$
C) $\frac{4}{5}$ ile $\frac{5}{6}$ D) $\frac{7}{15}$ ile $\frac{3}{15}$

17. $\left(1\frac{3}{8} - \frac{5}{4}\right) : \left(1\frac{3}{4} \times \frac{1}{2}\right)$ işleminin sonucu kaçtır?

A) $\frac{1}{7}$ B) $\frac{1}{4}$ C) 7 D) 8

18. $\frac{1}{6}$ 'i peşin, kalanı 6 eşit taksitle mal alan bir kişi, taksit olarak ayda 1 500 000 TL ödüyor. Bu malı kaç liraya almıştır?

A) 9 000 000 B) 9 800 000
C) 10 000 000 D) 10 800 000

19. Sıfırdan farklı bir sayının $\frac{1}{6}$ 'i ile $\frac{1}{a}$ 'inin toplamı sayının yarısına eşit ise, a kaçtır?

A) 2 B) 3 C) 4 D) 5

20. $\frac{4}{21} < \frac{2}{7} < \frac{2}{3} < \frac{1}{2}$ sıralaması için aşağıdaki ifadelerden hangisi doğrudur?

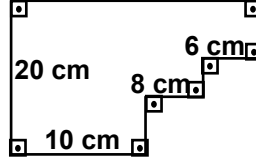
A) Verilen sıralama doğrudur.
B) $\frac{2}{3}$ ile $\frac{1}{2}$ nin yerleri değiştirilirse sıralama doğru olur.
C) $\frac{4}{21}$ ile $\frac{1}{2}$ nin yerleri değiştirilirse sıralama doğru olur.
D) $\frac{2}{7}$ ile $\frac{2}{3}$ ün yerleri değiştirilirse sıralama doğru olur.

21. $\left(\frac{2,08}{0,04} + \frac{1,8}{0,03}\right) \times 0,04$ işleminin sonucu kaçtır?

A) 48 B) 44 C) 4,48 D) 4,4

22. $\frac{6,44}{2,83+a}$ kesrinin bir doğal sayıya eşit olması için, a yerine yazılabilecek sayıların en büyüğü kaç olur?

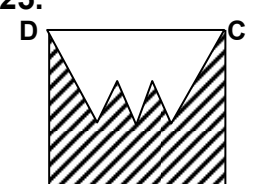
A) 9,27 B) 4,53 C) 3,61 D) 0,39

23.  Verilen şeklin çevresinin uzunluğu kaç cm dir?

A) 44 B) 64 C) 72 D) 88

24. İki kareden birisinin çevresinin uzunluğu diğerinin 2 katıdır. Buna göre, büyük karenin alanı, küçük karenin alanının kaç katıdır?

A) $\frac{3}{2}$ B) 2 C) $\frac{5}{2}$ D) 4

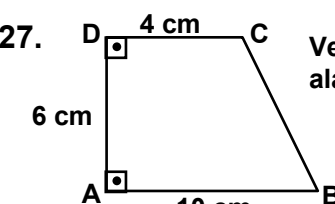
25.  Şekildeki ABCD karesinin çevresinin uzunluğu 80 cm, taralı bölgenin çevresinin uzunluğu 85 cm dir. Taralı olmayan bölgenin çevresinin uzunluğu kaç cm dir?

A) 25 B) 30 C) 35 D) 45

26. Aşağıda adları belirtilen geometrik şekillerden kaç tanesi düzgün çokgendir?

I- Eşkenar üçgen
II- Düzgün beşgen
III- Paralelkenar
IV- Dikdörtgen
V- Kare

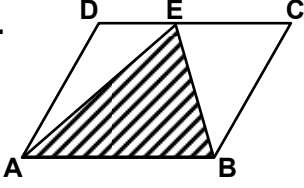
A) 1 B) 2 C) 3 D) 4

27.  Verilenlere göre, şeklin alanı kaç cm² dir?

A) 26 B) 42 C) 60 D) 84

MATEMATİK TESTİ

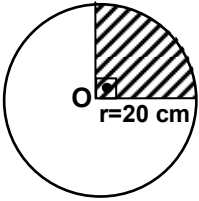
28.



Şekilde, ABCD paralelkenar ve E noktası DC kenarı üzerindedir. Buna göre, aşağıdakilerden hangisi doğrudur?

- A) Taralı üçgenin alanı, paralelkenarın alanının üçte biridir.
- B) Taralı üçgenin alanı, paralelkenarın alanının yarısıdır.
- C) Taralı üçgenin alanı, paralelkenarın alanının $\frac{2}{3}$ sidir.
- D) Taralı üçgenin alanı, paralelkenarın alanının $\frac{4}{5}$ üdür.

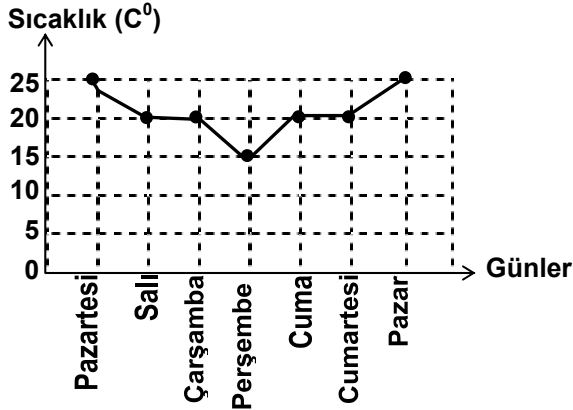
29.



Şekildeki O merkezli dairede taralı bölgenin çevresinin uzunluğu 70 cm ise, dairenin çevresinin uzunluğu kaç cm dir?

- A) 120
- B) 140
- C) 200
- D) 280

30.



Şekildeki grafik, bir ilin bir haftalık sıcaklık ölçümlerini göstermektedir. Hangi güne ait ölçüm, diğer günlere ait ölçümlerden hiçbiri ile aynı değildir?

- A) Pazartesi
- B) Çarşamba
- C) Perşembe
- D) Cumartesi

**MATEMATİK TESTİ BİTTİ.
FEN GRUBU TESTİNE GEÇİNİZ.**

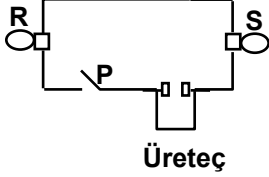
FEN GRUBU TESTİ

1. Atom çekirdeğinde aşağıdakilerden hangileri bulunabilir?

I- Elektron
II- Proton
III- Nötron

- A) Yalnız I B) Yalnız III C) I-II D) II-III

2.



Şekildeki devrede P anahtarı kapatılınca hangi durum görülür?
(Üreteç, lâmbaları yakacak güçtedir.)

- A) Sadece R lâmbası yanar.
B) Sadece S lâmbası yanar.
C) Her ikisi de yanar.
D) Her ikisi de yanmaz.

3. Bir maddenin 1 cm^3 ünün kütlelerine yoğunluk denir.

Madde	Kütle (g)
P	12
R	10,5
M	9
N	8

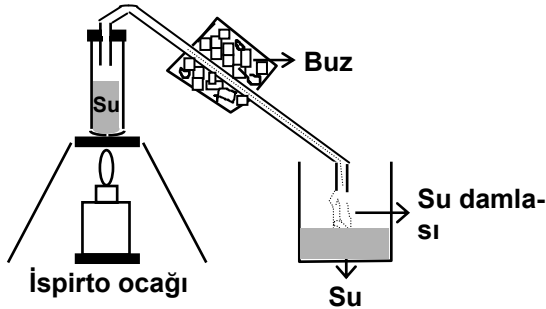
Buna göre tabloda kütleleri verilen esit hacimli maddelerden hangisinin yoğunluğu en azdır?

- A) P B) R C) M D) N

4. Yoğunlaşma (yoğuşma) olayında madde hangi hâlden hangi hâle geçer?

- A) Katıdan gaza B) Gazdan sıvıya
C) Sıvıdan katıya D) Katıdan sıvıya

5.



Yukarıdaki deneyde gözlenen durum hangi hava olayı ile benzerlik gösterir?

- A) Soğuk tabakaya rastlayan bulutların yağmur oluşturması
B) Soğuk havada kar tanelerinin erimeden yer yüzüne düşmesi
C) Bağıl nem % 100 ü aştığında sıvı zerreciklerinin havada asılı kalması
D) Hem mutlak nemin hem de doyuran nemin azalması

6. Aşağıdakilerden hangisi ışığın kırılma özelliğinden yararlanılarak yapılan araçlardan değildir?

- A) Dürbün B) Mikroskop
C) Dikiz aynası D) Fotoğraf makinesi

7. Deniz kıyısından su içindeki bir cisme bakan kişi, cismi nasıl görür?

- A) Bulunduğu yerde
B) Daha küçük
C) Bulunduğu yerden daha yukarıda
D) Bulunduğu yerden daha aşağıda

8. Aşağıdakilerden hangisi sesin ayırt edici özelliklerinden değildir?

- A) Yansıması B) Tını
C) Şiddeti D) Yüksekliği

9. Sesle ilgili bilgilerden hangisi yanlıştır?

- A) Dalgalar hâlinde yayılır.
B) Her ortamda yayılır.
C) Titreşim sonucunda oluşur.
D) Hızı, ortamın cinsine bağlıdır.

10. Aşağıdakilerden hangisi yanlıştır?

- A) Bütün saf maddeler tek cins atomlardan yapılmıştır.
B) Moleküller bağımsız küçük taneciklerdir.
C) Bileşiklerde iki veya daha çok element bulunur.
D) Elementler aynı cins atomlardan oluşur.

11. Isıtılarak derişik hâle getirilen şekerli su çözeltisinde şekerin kristallenmesini sağlamak için çözeltiliye aşağıdakilerden hangisi uygulanmalıdır?

- A) Süzgeç kâğıdından geçirme
B) Uygulanan basıncı artırma
C) Soğumaya bırakma
D) Saf su ekleme

12. Aşağıdaki araçların hangisinde elektrik enerjisinin dönüştüğü enerji çeşidi yanlış verilmiştir?

- A) Ütü → Isı
B) Telefon → Ses
C) Ampul → Isı ve ışık
D) Televizyon → Hareket

FEN GRUBU TESTİ

13. Aşağıdakilerden hangisi öncelikle toprak kirliliğine sebep olur?
- A) Isınmada kömür kullanılması
B) Tarımda çok çeşitli ilâçların kullanılması
C) Kanalizasyon sularının akarsulara verilmesi
D) Egzozlardan çıkan gazların havaya karışması
14. Aşağıdakilerden hangisi kurbağa ile kertenkele- nin ortak özelliğidir?
- A) Sürünerek hareket etme
B) Kuluçkaya yatmama
C) Başkalaşım geçirmeme
D) Deri solunumu yapma
15. Balıkların solunum organı hangisidir?
- A) Deri
B) Trake
C) Akciğer
D) Solungaç
16. Aşağıdakilerden hangisi etle beslenir?
- A) Kurt
B) Keçi
C) İnek
D) Tavşan
17. Aşağıdakilerden hangisi, kemiğin sert yapıda olmasının sebebidir?
- A) Madensel tuzlar bulundurması
B) Uçlarının kıkırdakla sarılı olması
C) Kemik zarı ile kaplı olması
D) Sarı ilik bulundurması
18. Aşağıdakilerden hangisi enerji verici besinler grubunda yer almaz?
- A) Yağ
B) Vitamin
C) Protein
D) Karbonhidrat
19. Aşağıdakilerden hangisi böbreğin bölümü değildir?
- A) Havuzcuk
B) Öz bölgesi
C) Kabuk bölgesi
D) İdrar torbası
20. Aşağıdakilerden hangisi dolaşım sistemi organıdır?
- A) Kalp
B) Karaciğer
C) Pankreas
D) Akciğer

SOSYAL GRUBU TESTİ

1. Türk Milleti, Bağımsızlığı sözkonusu olunca gözünü kırpmadan canını ortaya koymuş, tarih boyunca her zaman barışı yeğlediği gibi, fethettiği yerlerde insanları inanç ve ibadetlerinde özgür kılmış, zafer sırasında bile, aldığı bir salıkım üzümün bedelini asmanın dibine bırakmıştır.

Parçada Türk Milletinin hangi özelliğinden söz edilmemiştir?

- A) Doğruluk
B) Yardımseverlik
C) Cesaret
D) Hoşgörülü olmak
2. Milletimizi oluşturan tek tek bireylerin genel olarak aynı olaylar karşısında sevinmeleri ve üzülmeleri milleti meydana getiren öğelerinin öncelikle hangisinden kaynaklanmaktadır?
- A) Kültür birliğinden
B) Yurt birliğinden
C) Dil birliğinden
D) Ülkü birliğinden
3. Fransız İhtilali ile dünyaya yayılan milliyetçilik düşüncesi Osmanlı Devleti'ni çok etkilemiş ve topraklarının küçülmesine neden olmuştur. Milliyetçilik düşüncesinin Osmanlı Devleti'ni olumsuz yönden etkilemesi devletin hangi özelliğinden kaynaklanmaktadır?
- A) Mutlakiyetle yönetilmesinden
B) Topraklarının çok geniş olmasından
C) Çok uluslu olmasından
D) Askeri alandaki gelişmeleri takip etmemesinden
4. TBMM'nin Ankara'da açılarak millet adına ülke yönetimini eline almasına aşağıdaki olaylardan hangisi yol açmıştır?
- A) Mondros Ateşkes Antlaşmasının imzalanması
B) İtilâf Devletleri'nin İstanbul'u resmen işgal etmesi
C) Mustafa Kemal ve Temsil Heyeti üyelerinin Ankara'ya gelmesi
D) Amasya Görüşmeleri
5. Türkiye Cumhuriyeti Devleti aşağıdaki antlaşmalardan hangisi ile kapitülasyonları kaldırarak ekonomik sınırlamalardan kurtulmuştur?
- A) Mudanya Ateşkes Antlaşması
B) Gümrü Antlaşması
C) Ankara Antlaşması
D) Lozan Barış Antlaşması

6. Atatürk, akıl ve bilimi esas alarak çağdaş uygarlığa ulaşmak amacıyla birçok alanda olduğu gibi siyasal alanda da inkılaplar yapmıştır. Aşağıdakilerden hangisi bu alanda yapılan inkılaplardan biridir?

A) Türk Medeni Kanun'un kabul edilmesi
B) Cumhuriyetin ilanı
C) Yeni Türk harflerinin kabulü
D) Şapka Kanunu'nun kabulü

7. Mustafa Kemal "Türk milleti, evlatlarına vereceği eğitimi, okul ve medrese diye iki ayrı kuruluşa bırakamazdı" sözleriyle Türk devletinde farklı kültür, bilgiye ve davranışa sahip insanlar yetiştirmenin önüne geçmek için aşağıdaki inkılaplardan hangisini gerçekleştirmiştir?

A) Türk Medeni Kanun'un kabul edilmesi
B) Tevhid-i Tedrisat Kanunu'nun kabul edilmesi
C) Takvim, saat ve ölçülerde değişiklik yapılması
D) Soyadı Kanunu'nun kabul edilmesi

8. Hiçbir ferde, aileye, zümreye ayrıcalık tanımadan Türk toplumunun her üyesinin kanunlar karşısında eşit sayıldığı Atatürk ilkesi hangisidir?

A) Lâiklik
B) Cumhuriyetçilik
C) Halkçılık
D) Devletçilik

9. Tuğrul ve Çağrı beyler Dandanakan'da aşağıdaki hangi devletle yapmış oldukları mücadele sonunda Büyük Selçuklu Devleti'nin kuruluşunu tamamlamışlardır?

A) Gazneli
B) Bizans
C) Abbasi
D) Karahanlı

10. Büyük Selçuklularda eyaletlerdeki adalet işlerine aşağıdakilerden hangisi bakardı?

A) Kadı
B) Atabey
C) Subaşı
D) Vezir

11. Hangi bölgemizdeki dağ sıraları, denize dik olarak uzanmaktadır?

A) Ege
B) Marmara
C) Karadeniz
D) Akdeniz

12. Aşağıdaki gümrük kapılarından hangisi, Türkiye-İran sınırında yer alır?

A) Habur
B) Gürbulak
C) Nusaybin
D) Kapıkule

SOSYAL GRUBU TESTİ

13. Kara ikliminin en belirgin özelliği, aşağıda verilen bölge çiftlerinden hangisinde görül-
mektedir?

- A) Ege-İç Anadolu
- B) Karadeniz-Doğu Anadolu
- C) Güneydoğu Anadolu-Marmara
- D) Doğu Anadolu-İç Anadolu

14. Kıyı bölgelerimizdeki yağış miktarı, iç bölge-
lerden daha fazladır. Aşağıdakilerden hangisi
bunun sebebi değildir?

- A) Denizden gelen nemli rüzgârların etkisi
- B) İç kesimlere gidildikçe yükseltinin artması
- C) Kuzey ve güneyde dağların kıyıya paralel
uzanması
- D) İç kesimlere gidildikçe orman alanlarının
azalması

15. Yaz ve kış mevsimleri arasındaki sıcaklık farkı,
aşağıdaki illerimizin hangisinde daha fazladır?

- A) Rize B) Konya C) Adana D) İzmir

**DİN KÜLTÜRÜ ve AHLÂK BİLGİSİ DERSİNİ
OKUYANLAR AŞAĞIDAKİ SORULARI
CEVAPLAYACAKLAR. OKUMAYANLAR
BUNUN YERİNE, AYNI NUMARALI SOSYAL
BİLGİLER SORULARINI CEVAPLAYACAKLAR.**

16. Cami, mescid gibi yerlerde kabe yönünü
gösteren, duvarda bulunan ve imama ayrıl-
mış olan oyuk veya girintili yerin genel adı
aşağıdakilerden hangisidir?

- A) Minber B) Mihrap C) Minare D) Kürsü

17. Aşağıdakilerden hangisi beş vakit namazdan
birisini değildir?

- A) Yatsı namazı B) Öğle namazı
- C) Cuma namazı D) Akşam namazı

18. Ramazan ayında yatsı namazından sonra
çoğunlukla yirmi rekât olarak kılınan namaz,
aşağıdakilerden hangisidir?

- A) Vitr namazı B) Nafile namazı
- C) Teravih namazı D) Seferî namazı

19. Aşağıdakilerden hangisi orucu bozan bir
davranış değildir?

- A) Yüzmek veya banyo yapmak
- B) Bilerek bir şey yiyip içmek
- C) İftar vakti sanarak orucunu açmak
- D) Ağız dolusu kusmak

20. Ramazan ayında orucun başladığı, yemenin
içmenin vb davranışların sona erdiği vakit
aşağıdakilerden hangisidir?

- A) Sahur B) İftar C) İmsak D) Sabah

**DİN KÜLTÜRÜ ve AHLÂK BİLGİSİ DERSİNİ
OKUMAYANLAR, AŞAĞIDAKİ SOSYAL
BİLGİLER SORULARINA CEVAP VERECEKLER.
OKUYANLAR CEVAP VERMEYECEK.**

16. Amasya Genelgesi'nin aşağıdaki maddelerinden
hangisi Türk milletinin işgalci devletlere karşı
mücadeleye katılması yönünde bir duyurusudur?

- A) Vatanın bütünlüğü, milletin bağımsızlığı
tehlikededir.
- B) Milletin bağımsızlığını yine milletin azim ve
kararı kurtaracaktır.
- C) İstanbul'daki hükümet, üzerine aldığı so-
rumluluğun gereklerini yerine getireme-
mektedir.
- D) Millet haklarını savunmak için millî bir
kurulun varlığı çok gereklidir.

17. Aşağıdakilerden hangisi I.İnönü Savaşı'nın
sonuçlarından biridir?

- A) Mustafa Kemal'in Başkomutanlık görevine
atanması
- B) Mudanya Ateşkes Antlaşmasının imza-
lanması
- C) Londra Konferansının toplanması
- D) Fransa'nın yeni Türk devletini resmen ta-
nıması

18. Türkiye Cumhuriyeti'nde Türk kadınının be-
lediye seçimlerine katılma hakkını elde etme-
si hangi yılda gerçekleşmiştir?

- A) 1923 B) 1924 C) 1930 D) 1934

19. Aşağıda verilen bilgilerden hangisi yanlıştır?

- A) Akdeniz iklim alanlarının doğal bitki örtü-
sü bozkırdır.
- B) Karasal iklim alanlarında yazlar sıcak ve
kurak geçer.
- C) Akdeniz ikliminde kışlar ılık ve yağışlıdır.
- D) Karadeniz iklim alanlarında doğal bitki ör-
tüsü ormandır.

20. Ülkemizde, hidroelektrik santrallerinin en
büyükleri, aşağıdaki akarsulardan hangisi
üzerinde kurulmuştur?

- A) Sakarya B) Ceyhan
- C) Fırat D) Büyük Menderes

TEST BİTTİ.

CEVAPLARINIZI KONTROL EDİNİZ.