



T.C.
MİLLÎ EĞİTİM BAKANLIĞI

6

DEVLET PARASIZ YATILILIK VE BURSLULUK SINAVI TEST KİTAPÇIĞI
6. SINIF
21 HAZİRAN 2003 Saat: 10.00

Adayın Adı ve Soyadı :
Aday Numarası :

DİKKAT: 1. Test kitapçıklarını kontrol ederek, baskı hatası olan kitapçığın değiştirilmesi için salon sorumlularına başvurunuz.
2. Test kitapçığının ön ve arka yüzündeki açıklamaları okuyunuz.
3. Sınavda hesap makinesi, cep telefonu ve çağrı cihazı kullanılması yasaktır. Bu cihazları sınav başlamadan önce salon başkanına teslim ediniz.

CEVAP KÂĞIDI İLE İLGİLİ AÇIKLAMA

1. Cevap kağıdı üzerine yapacağınız işaretlemelerde siyah kurşun kalemden başka kalem kullanmayınız.
2. **Size verilen cevap kâğıdında yazılı olan bilgilerin size ait olup olmadığını kontrol ediniz.** Size ait değilse salon sorumlularına söyleyiniz. Adınıza yazılı cevap kâğıdı bulunamıyorsa veya cevap kâğıdınız kullanılamayacak şekilde bozursa, size verilecek olan yedek cevap kâğıdına, kimliğinizle ilgili bilgileri, salon başkanının açıklamalarına göre yazınız.
3. Cevap kâğıdında **TÜRKÇE, MATEMATİK, FEN BİLİMLERİ ve SOSYAL BİLİMLER** testleri için dört ayrı sütun bulunmaktadır. Cevaplarınızı cevap kâğıdındaki ilgili sütunlara aşağıdaki örnekte olduğu gibi yuvarlağı, dışına taşırmadan işaretleyiniz. Yanlış karalamalarınızı düzeltirken yuvarlağın içini temizce siliniz.

ÖRNEK KODLAMA



TEST KİTAPÇIĞI İLE İLGİLİ AÇIKLAMA

1. Bu test kitapçığında **TÜRKÇE testinde 25, MATEMATİK testinde 25, FEN BİLİMLERİ testinde 25 ve SOSYAL BİLİMLER testinde 25** olmak üzere toplam **100** soru bulunmaktadır. Testin tümü için verilen cevaplama süresi **100 dakikadır**.
2. Her sorunun dört seçeneğı vardır. Dört seçenekten sadece bir tanesi doğru cevaptır. Doğru bulduğunuz seçeneğı cevap kâğıdında o soru için ayrılan yerde bularak işaretleyiniz.
3. Size ayrı bir karalama kâğıdı verilmeyecektir. Test kitapçığının içindeki boş alanları karalama yapmak için kullanabilirsiniz.
4. Cevabını bilmediğiniz sorular üzerinde fazla zaman kaybetmeden diğer sorulara geçiniz. Zamanınız kalırsa bu sorulara daha sonra dönebilirsiniz.
5. Puanlamada her soru grubu için yanlış cevap sayısının **üçte biri, doğru cevap sayısından çıkarılarak** geçerli cevaplara karşı gelen ham puan tespit edilecektir. Bu nedenle rastgele cevaplama yapmayınız.
6. Sınavın bitiminde cevap kâğıdınızı ve soru kitapçığınızı salon sorumlularına teslim etmeyi unutmayınız.

BAŞLAYINIZ DENİLMEYEN TEST KİTAPÇIĞINI AÇMAYINIZ.

1. Gurbetim içimde ağlar,
Sıla türküsüyle çağlar,
Mısrayı mısraya bağlar,
Dilim, dilinden dilinden.
Dörtlüğe göre, şair nasıl bir duygu içindedir?
A) Acıma B) Endişe C) Özlem D) Öfke
2. "Bu kuşlara Güney Akdeniz'de Miho derler."
1 2 3 4
Bu cümledeki altı çizili sözcüklerden hangisinin çeşidi diğerlerinden farklıdır?
A) 1 B) 2 C) 3 D) 4
3. Aşağıdaki cümlelerin hangisinde sözcük durumunda birden çok zamir (adıl) vardır?
A) Yarınki geziye sen de gelmelisin.
B) O, işlerini kendi başına yapar.
C) Komşular bizden önce taşındılar.
D) Bana danışmadan çekip gitti.
4. Aşağıdaki cümlelerin hangisinde yazım yanlışı vardır?
A) Sağlık kurulları Cuma günleri toplanırdı.
B) Öğretmenliğe 15 Ağustos 1976'da başladım.
C) Okullar, haziran ayının başında kapanır.
D) Anneler Günü mayıs ayının ilk pazarıdır.
5. Hangi seçenekteki sözcükler anlam ilişkisi yönünden diğerlerinden farklıdır?
A) Engel - mâni B) Kuşku – şüphe
C) Anne - yavru D) Yaş - ıslak
6. Aşağıdaki eylemlerden hangisinin zamanı diğerlerinden farklıdır?
A) Benzer B) Geldiniz
C) Aydınlanır D) Gelmez
7. Alçaklı yüksekli evlerim mi var?
Kırmızı çubuklu bağlarım mı var?
Geride acıyıp ağlarım mı var?
Sılam seni terk edeyim bir zaman.
Dörtlükten aşağıdakilerin hangisi çıkarılamaz?
A) Kimsesizlik B) Yoksulluk
C) Sitem D) Acıma
8. 1- cevap
2- kapılırız
3- eğilimimize
4- kendi
5- veren
6- düşüncelere
7- kolayca
Yukarıdaki sözcüklerle anlamlı bir cümle oluşturulduğunda sıralama nasıl olur?
A) 4-3-1-5-6-7-2 B) 7-1-5-6-4-3-2
C) 4-3-7-2-6-1-5 D) 6-1-5-4-3-7-2
9. Aşağıdaki çekimli eylemlerden hangisinin kişisi diğerlerinden farklıdır?
A) Gülümsedi B) Beklesin
C) Anlamalı D) Bulunuz
10. Aşağıdaki sözcüklerden hangisinin yapısı diğerlerinden farklıdır?
A) Kulaktan B) Satışımız
C) Atkılar D) Sarmaladı
11. Aşağıdaki cümlelerin hangisinde sıfat tamlaması vardır?
A) Kızın eldiveni kayboldu, dediler.
B) Babası, çocuk bisikleti satıyor.
C) Serin günler kapıya dayandı.
D) Doktor hastaya, "Kuyu suyu içme!" dedi.
12. Aşağıdaki isimlerden hangisi çekim eki almamıştır?
A) Yoğurtçuluk B) Yollardan
C) Kitapçıya D) Ayrılanları

13. Aşağıdaki cümlelerin hangisinde eylemin devam etmesi söz konusudur?

- A) Daha zili çalmadan kapı kendiliğinden açılıverdi.
 B) Torunları da gidince tek başına kalakaldı.
 C) Keşke başımdan geçenleri anlatmasaydım.
 D) Haber alır almaz hemen yola çıktık.

14. Aşağıdakilerden hangisi kurallı cümledir?

- A) Erzurum'dan gece geçtik Erzincan'a.
 B) Kimse görmez seni bu karanlıkta.
 C) Sınıfını geçmek Ayşe'nin tek düşüncesidir.
 D) Böyle acı sözlerle üzme beni.

15. Aşağıdaki cümlelerin hangisindeki tamlamanın hem tamlayanı hem tamlananı ek almamıştır?

- A) Halk, durakta uzun kuyruk oluşturmuştu.
 B) Turistler topluca Ankara Kalesi'ni gezdiler.
 C) Masanın üstündeki gazeteyi aldı.
 D) Yaz tatilinde okulun badanası bitirildi.

16. 1- Açılan bir gülsün sen yaprak yaprak
 2- Ben aşkımla bahar getirdim sana
 3- Tozlu yollarından geçtiğim uzak
 4- İklimden şarkılar getirdim sana

Yukarıdaki dizelerin hangilerinde ulama vardır?

- A) 1 - 2 B) 1 - 3 C) 2 - 3 D) 3 - 4

17. Çalışkan insan her yerde kendini kabul ettirir. Değil dostları, düşmanları bile ona hakkını teslim eder. Çalışkan insan elbette miskin miskin oturanla bir tutulmaz. Bu ne vicdana ne insafa sığar. Çalışkan insan başkalarına muhtaç yaşamaktan da kurtulmuştur. Her insan çalışmayı ibadet bilmelidir.

Paragrafın konusu aşağıdakilerden hangisidir?

- A) İnsan ilişkileri B) Çalışmanın önemi
 C) İnsanın üstünlüğü D) Saygınlık

18. Aşağıdaki cümlelerin hangisinde yansımadan türemiş bir sözcük vardır?

- A) Ağaçlardan kırmızı elmalar sarkıyordu.
 B) Dalgaların çoğalmasıyla deniz bembeyaz kesildi.
 C) Sabah erken saatte kuşlar cıvıldaşıyordu.
 D) Ayşe ablamın kestane rengi saçları var.

19. "Güzel" sözcüğü, aşağıdaki cümlelerin hangisinde zarf olarak kullanılmıştır?

- A) Bahçede ne güzel çiçekler var.
 B) Şimdiye kadar böyle güzel bir iş yapmadım.
 C) Bizi iki aydır güzel sözlerle oyaladı.
 D) Resmi herkes güzel yapamaz.

20. Aşağıdaki sözcüklerin hangisinde hem yapım hem çekim eki vardır?

- A) Yolcuyu B) Silgeç
 C) Gözümde D) Kardeşçe

21. Toplumun kusurlarını ve gülünç durumlarını ortaya koyan tiyatro türüne ne ad verilir?

- A) Trajedi B) Komedi C) Operet D) Dram

22. Bir taraftan hava zehirleniyor
 Bir taraftan çevreler kirleniyor
 Ozonda delikler belirleniyor
 N'olacak bilemem dünyanın hâli
 Şiire göre şairin asıl endişesi aşağıdakilerden hangisidir?

- A) Hava kirliliği
 B) Ozon tabakasının delinmesi
 C) Çevredeki kirlilik
 D) Doğal dengenin bozulması

23. "-cı (-ci)" eki, aşağıdaki cümlelerin hangisinde eklendiği sözcüğe meslek anlamı kazandırmıştır?

- A) Gündüz vardiyasındakiler hafta sonu gecceci oluyorlar.
 B) Yeni verici istasyonu hizmete girdi.
 C) Usta, kendine bir yardımcı eleman aldı.
 D) Siteye yeni bir kapıcı alındı.

24. Aşağıdaki dizelerin hangisinde sert ünsüzlerin yumuşamasına örnek bir sözcük yoktur?

- A) Yiğit olan yiğit kurt gibi bakar,
- B) Düşmanı görünce ayağa kalkar,
- C) Kapar mızrağını meydana çıkar,
- D) Yiğidin ardında duran olmalı.

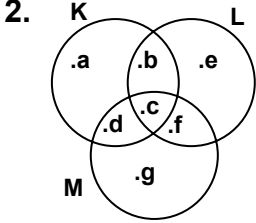
25. “..... adam başkasını da bilen adamdır.” cümlesinde boş bırakılan yerlere, hangi seçenekteki sözcüklerin getirilmesi uygundur?

- A) Dürüst - denemesini
- B) Akıllı - duymasını
- C) Becerikli - anlamasını
- D) Bilge – dinlemesini

TÜRKÇE TESTİ BİTTİ.
MATEMATİK TESTİNE GEÇİNİZ.

1. 24 daireselik bir apartmanın her dairesinde A ve B gazetelerinden en az biri okunmaktadır. 13 dairede yalnız A gazetesi, 4 dairede ise A ve B gazeteleri okunuyor. Buna göre, B gazetesinin okunduğu kaç daire vardır?

A) 7 B) 11 C) 13 D) 17



Şemada gösterilen K, L ve M kümelerine göre, $(K \cup L) \setminus M$ kümesinin liste biçiminde gösterilişi hangisidir?

A) {a, b, e} B) {g}
C) {d, c, f} D) {a, b, c, d, e}

3. 2470802251 sayısının milyonlar bölümündeki rakamların sayı değerleri toplamı ile birler bölümündeki rakamların sayı değerleri toplamının farkı kaçtır?

A) 10 B) 5 C) 3 D) 1

4. Aşağıdaki eşitliklerden hangisi doğrudur?

A) $2^4 = 4^2$ B) $3^4 = 4^3$ C) $9^0 = 9^1$ D) $5^2 = 2^5$

5. 8 kg patatesi 840 000 TL ye alan bir pazarcı, 5 kg ını 1 050 000 TL ye satıyor. Patatesin alış ve satış fiyatlarına göre, aşağıdakilerden hangisi doğrudur?

A) Alış ve satış fiyatları aynıdır.
B) Satış fiyatı, alış fiyatının 2 katıdır.
C) Satış fiyatı, alış fiyatının $\frac{3}{2}$ katıdır.
D) Satış fiyatı, alış fiyatının 3 katıdır.

6. Pınar'ın kütlesi Zeynep'in kütlesinden 3 kg fazladır. Zeynep'in kütlesi, Ayça'nın kütlesinden 4 kg azdır. Buna göre, aşağıdakilerden hangisi yanlıştır?

A) Ayça'nın kütlesi, Zeynep'in kütlesinden 4 kg fazladır.
B) Pınar'ın kütlesi, Ayça'nın kütlesinden 1 kg azdır.
C) Ayça'nın kütlesi, Pınar'ın kütlesinden 7 kg fazladır.
D) Zeynep'in kütlesi, Pınar'ın kütlesinden 3 kg azdır.

7. Burak'ın kalemlerinin sayısı, Ali'nin kalemlerinin sayısının iki katının 5 eksiğidir. Can'ın kalemlerinin sayısı, Burak'ın kalemlerinin sayısından 7 fazladır. Ali'nin 9 tane kalem olduğuna göre, Burak ile Can'ın toplam kaç tane kalem vardır?

A) 33 B) 20 C) 13 D) 10

8. Üç basamaklı $a5b$ sayısı, doğal sayılar kümesinde hem 5 hem de 9 ile bölünebildiğine göre, $a + b$ nin değeri en az kaç olur?

A) 1 B) 4 C) 9 D) 13

9. a ve b iki sayma sayısıdır. $2a = b$ ise, aşağıdakilerden hangisi her zaman doğrudur?

A) $a + b$ çift sayıdır. B) b çift sayıdır.
C) a tek sayıdır. D) $b - a$ tek sayıdır.

10. 400 tane fıncığın $\frac{1}{4}$ ini Ali, $\frac{2}{5}$ sini Kemal, $\frac{3}{10}$ ünü Veli, geri kalanını da Mustafa alıyor. Buna göre, aşağıdakilerden hangisi doğrudur?

A) En fazla fıncığı Mustafa almıştır.
B) Ali, Kemal'den 60 fıncık fazla almıştır.
C) Veli, Ali'den 20 fıncık fazla almıştır.
D) Mustafa ile Veli aynı sayıda fıncık almıştır.

11. Aşağıdaki sıralamalardan hangisi doğrudur?

A) $\frac{2}{3} < \frac{5}{6} < \frac{3}{4}$ B) $\frac{2}{3} < \frac{3}{4} < \frac{5}{6}$
C) $\frac{3}{4} < \frac{2}{3} < \frac{5}{6}$ D) $\frac{5}{6} < \frac{2}{3} < \frac{3}{4}$

12. $\left(\frac{2}{3} - \frac{1}{2}\right) : \left(2\frac{1}{2} : \frac{1}{3}\right)$ işleminin sonucu hangisidir?

- A) $\frac{1}{5}$ B) $\frac{1}{10}$ C) $\frac{1}{15}$ D) $\frac{1}{45}$

13. 160 tane cevizin $\frac{1}{4}$ ini Ali, kalanın yarısını Ayşe, 10 tanesini Hakan alıyor. Geriye kalan cevizler, dağıtılmadan önceki cevizlerin kaçta kaçtır?

- A) $\frac{1}{4}$ B) $\frac{3}{8}$ C) $\frac{5}{12}$ D) $\frac{5}{16}$

14. $\frac{1,2 + 0,2}{1,4}$ işleminin sonucu hangisidir?

- A) $\frac{1}{4}$ B) $\frac{1}{2}$ C) 1 D) 2

15. $0,000583 = 5,83 \cdot 10^m$ olduğuna göre, m kaçtır?

- A) 4 B) 3 C) -3 D) -4

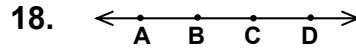
16. İki kişinin paylaştıkları cevizlerin oranı $\frac{2}{3}$ tür.

160 tane ceviz paylaşıldığına göre, az alan kişinin cevizlerinin sayısı kaçtır?

- A) 48 B) 64 C) 72 D) 96

17. Bir atölyede, bir işçi bir halıyı 24 günde dokuyor. Aşağıda, aynı nitelikteki işçi sayılarına göre, bu işçilerin aynı ölçüdeki halıyı dokuma süreleri hangisinde yanlış verilmiştir?

- A) 2 işçi 12 günde dokur.
B) 3 işçi 8 günde dokur.
C) 6 işçi 4 günde dokur
D) 8 işçi 2 günde dokur.



Doğru üzerinde gösterilen A, B, C ve D noktalarına göre, aşağıdakilerden hangileri doğrudur?

1. $[AC \cap [DB = [AD]$
2. $[BA \cup [CD = AD$
3. $[CA \cup [CD = AD$
4. $[BA \cap [DB = [AD$

- A) 1 ve 3 B) 2 ve 4 C) 1 ve 2 D) 3 ve 4

19. Şekle göre, aşağıdakilerden hangisindeki açılar komşu açılar değildir?

- A) $\hat{A}OB$ ile $\hat{B}OC$ B) $\hat{A}OC$ ile $\hat{D}OC$
C) $\hat{A}OB$ ile $\hat{C}OD$ D) $\hat{A}OB$ ile $\hat{B}OD$

20. Şekilde kaç tane üçgen vardır?

- A) 5 B) 8 C) 10 D) 11

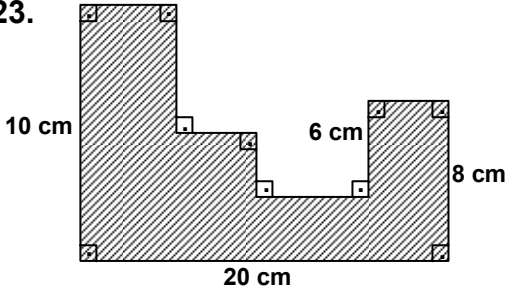
21. $\begin{array}{r} 15 \text{ sa } 18 \text{ dk } 16 \text{ sn} \\ + 8 \text{ sa } 41 \text{ dk } 44 \text{ sn} \\ \hline \end{array}$ Verilen toplama işleminin sonucu hangisidir?

- A) 23 sa 23 dk 28 sn B) 23 sa 24 dk
C) 1 gün 1 sa 1 dk D) 1 gün

22. Şekildeki ABCD dörtgeni kare, $\hat{C}BE$ ikizkenar dik üçgendir. AECD dörtgeninin alanı, karenin alanının kaç katıdır?

- A) $\frac{3}{4}$ B) $\frac{2}{3}$ C) $\frac{4}{3}$ D) $\frac{3}{2}$

23.



Üzerindeki verilere göre, taralı şeklin çevresinin uzunluğu kaç cm dir?

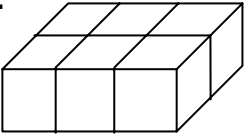
- A) 72 B) 70 C) 68 D) 66

24. Aşağıdaki kütle ölçüsü birimleri arasındaki çevirmelerden hangileri doğrudur?

1. 0,01 kg = 10 g
2. 0,25 t = 2500 kg
3. 130 000 g = 0,13 t
4. 0,5 dag = 50 kg

- A) 1 ve 3 B) 2 ve 4 C) 1 ve 2 D) 3 ve 4

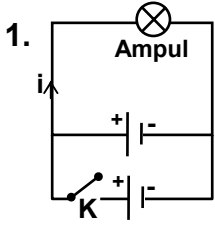
25.



Şekildeki cisim, hacmi 1 cm^3 olan küplerden oluşmaktadır. Bu cismin alanı kaç cm^2 dir?

- A) 36 B) 32 C) 24 D) 22

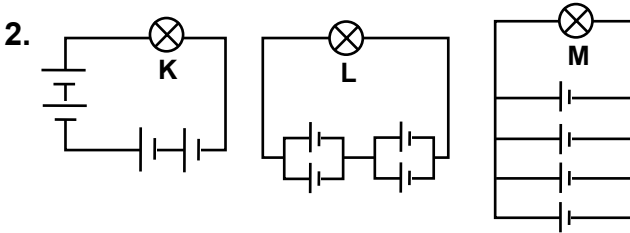
MATEMATİK TESTİ BİTTİ.
FEN BİLİMLERİ TESTİNE GEÇİNİZ.



Özdeş pillerden oluşan şekildeki devrede K anahtarı kapatıldığında aşağıda verilen bilgiler için ne söylenebilir?

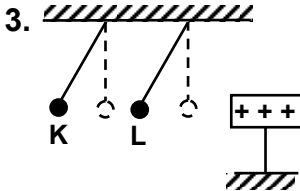
- I. Ampulün üzerinden geçen akım şiddeti artar.
II. Ampulün parlaklığı değişmez.

- A) Yalnız I doğru B) Yalnız II doğru
C) Her ikisi de doğru D) Her ikisi de yanlış



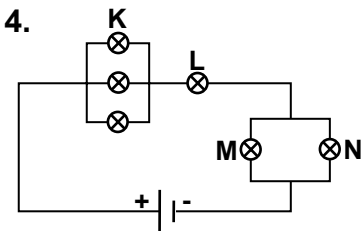
Özdeş pil ve ampullerden oluşan şekildeki devrelerde ampullerin parlaklığı ile ilgili verilen bilgilerden hangisi yanlıştır?

- A) En parlak K'dır.
B) K, M'den parlaktır.
C) M ile L'nin parlaklıkları aynıdır.
D) L, M'den parlaktır.



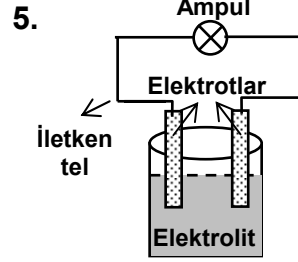
Şekildeki durumun sağlanabilmesi için özdeş K ve L kürelerinin yük durumları hangisinde doğru verilmiştir?

- | | K | L |
|----|---|------|
| A) | + | + |
| B) | + | Nötr |
| C) | - | + |
| D) | - | - |



Şekildeki elektrik devresinde özdeş ampullerin hangisi en parlak yanar?

- A) K B) L C) M D) N



Aşağıdakilerden hangisi şekildeki volta pilinin elektrotları olarak kullanılabilir?

- A) Bakır-çinko B) Alüminyum-plâstik
C) Demir-tahta D) Cam-ebonit

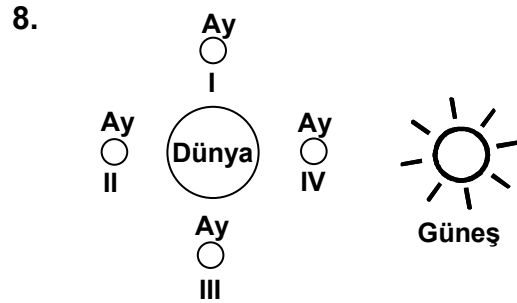
6. Güneş'e en çok yaklaşan gezegen aşağıdakilerden hangisidir?

- A) Plüton B) Merkür C) Jüpiter D) Neptün

7. Aşağıdaki tanımlar için ne söylenebilir?

- I. Güneş sistemi içerisindeki pek çok irili ufaklı gök cisimlerinin oluşturduğu kuşağa asteroit denir.
II. İnsan eliyle yapılarak, belirlenen yörüngeye yerleştirilen cisimlere yapay uydular denir.

- A) Yalnız I doğru B) Yalnız II doğru
C) Her ikisi de doğru D) Her ikisi de yanlış

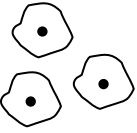


Yukarıdaki çizimde Ay'ın hangi konumlarında aşağıdaki tutulmalar gözlenir?

	Ay Tutulması	Güneş tutulması
A)	I	II
B)	II	III
C)	I	IV
D)	II	IV

9. Dünya ile ilgili aşağıda verilen bilgilerden hangisi yanlıştır?

- A) Güneş sisteminde yer alır.
B) Güneş etrafında elips bir yörüngede dolaşır.
C) Uydusu Ay'dır.
D) Güneş etrafında bir tam dönüşünde gece-gündüz meydana gelir.

10.  Mikroskopta hücreleri incelemek isteyen bir öğrenci yandaki şekli görmüştür. Bu şekle bakıp hücreyle ilgili hangi soruya cevap verebilir?


- A) Kaç kısımdan oluşur?
B) Hangi canlıya aittir?
C) Nasıl bölünür?
D) Nasıl beslenir?

11. • K hücresinin kloroplastı vardır.
• L hücresinin hücre duvarı yoktur.
• M hücresinin zarla çevrili çekirdeği yoktur.
Özellikleri verilen K, L, M hücreleri hangi canlılara ait olabilir?

- | | K | L | M |
|----|---------|---------|---------|
| A) | Bakteri | Muz | Mantar |
| B) | Tavuk | Havuç | Bakteri |
| C) | Domates | Bakteri | Hamsi |
| D) | Fasulye | Kedi | Bakteri |

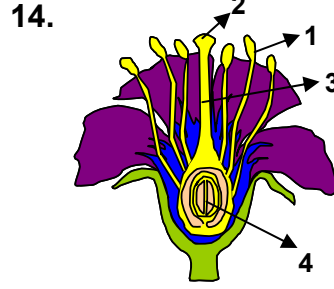
12. Bitkilerde uzamayı sağlayan doku hangisidir?

- A) Koruyucu doku B) Sürgen doku
C) İletim dokusu D) Özümleme dokusu

13.  Bir öğrenci özdeş iki bitkiden birinin yapraklarını azaltıp; her ikisine her gün su verip bir süre sonra tartıyor.

Öğrenci bu deneyde aşağıdakilerden hangisini araştırmaktadır?

- A) Aynı tür bitkilerdeki terleme oranını
B) Yaprak miktarının terlemedeki etkisini
C) Genç gövdelerin solunum yapıp yapmadığını
D) Çok yapraklı bitkilerdeki solunum hızını



Yandaki çiçek resminde polen kaç numaralı kısımda oluşur?

- A) 1 B) 2 C) 3 D) 4

15.

	Kök	Gövde	Yaprak	Çiçek
Ayçiçeği	Var	Var	Var	Var
Elma ağacı	Var	Var	Var	Var
Eğrelti otu	Var	Var	Var	Yok

Yukarıdaki tabloda bazı bitkilerin kısımları hakkında bilgi verilmiştir. Buna göre tabloda verilen bitkilerin ortak özelliği aşağıdakilerden hangisidir?

- A) Aynı kök tipine sahip olma
B) Eşeysiz üreme
C) Fotosentez yapma
D) Odunsu gövdeli olma

16. Bir çocuk, kolunu hareket ettirirken aşağıdakilerden hangilerinin faaliyet göstermesi zorunludur?

- I- Kaslarının
II- Sinirlerinin
III- Kemiklerinin

- A) Yalnız I B) Yalnız II C) I-III D) I-II-III

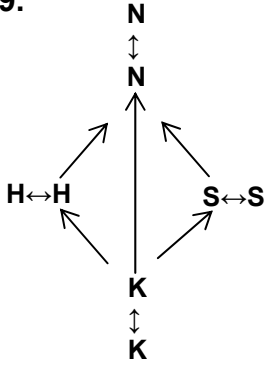
17. Vücudumuzun hangi kısmında yarı oynar eklem bulunur?

- A) Omurgada B) Diz kapağında
C) Kafatasında D) Dirsekte

18. Aşağıdaki iç salgı bezlerinden hangisi adrenal hormonu salgılar?

- A) Hipofiz bezi B) Tiroid bezi
C) Yumurtalık D) Böbrek üstü bezi

19.



- A) A B) B C) O D) AB

Yandaki şema kan grupları arasındaki kan alışverişini göstermektedir.

Buna göre K harfi hangi kan grubunu ifade eder?

20. Aşağıdakilerden hangisi, nefes alma sırasında gerçekleşmez?

- A) Diyaframın düzleşmesi
B) Akciğerlerin sıkıştırılması
C) Göğüs boşluğu hacminin artması
D) Kaburgalar arasında dışta yer alan kasların kasılması

21. Aşağıdakilerden hangisi hem sindirim enzimi hem de hormon salgılayan bir bezdir?

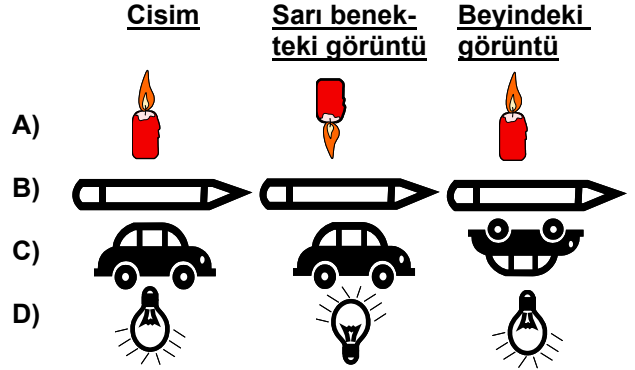
- A) Pankreas B) Karaciğer
C) Böbrek D) Hipofiz

22. Aşağıdakilerden hangisi sonradan kazanılan reflekslerden değildir?

- A) Yüzmek
B) Örgü örmek
C) Eline iğne batan çocuğun elini aniden çekmesi
D) Çocukken keman çalmayı öğrenen birinin ileri yaşlarda yine çalabilmesi

23. Cisimden yansıyor kırılan ışınlar sarı benek üzerinde ters görüntü oluşturur. Bu görüntünün, görme sinirleriyle beyne iletilmesi sonucu net ve düz görüntü elde edilir.

Buna göre aşağıdakilerden hangisi yanlış verilmiştir?



24. Dilinin sağ yarısı uyuşturulan bir kişi, sol tarafıyla hangi tatları alabilir?

- I- Acı
II- Tatlı
III- Ekşi
IV- Tuzlu

- A) I-II B) II-III C) I-III-IV D) I-II-III-IV

25. Derimizin hangi kısmı, ısı kaybını önleyerek vücut sıcaklığının korunmasını sağlar?

- A) Üst deri B) Kıl kökleri
C) Duyu almaçları D) Yağ doku tabakası

FEN BİLİMLERİ TESTİ BİTTİ.
SOSYAL BİLİMLER TESTİNE GEÇİNİZ.

1. IV. yüzyılda Anadolu'ya aşağıdaki Türk devletlerinden hangisi tarafından akınlar düzenlenmiştir?

- A) Sibirler
C) Avarlar
- B) Kırgızlar
D) Hunlar

2. Aşağıdakilerden hangisi Bizanslılarla Büyük Selçuklular arasında yapılan ilk savaştır?

- A) Malazgirt
C) Pasinler
- B) Katvan
D) Dandanakan

3. Aşağıdakilerden hangisi Malazgirt Zaferinden sonra Anadolu'da kurulan ilk Türk devletlerinden biri değildir?

- A) Danişmentliler
C) Saltuklular
- B) Karamanoğulları
D) Artuklular

4. Danişmentliler Beyliği'ne son veren Anadolu Selçuklu hükümdarı aşağıdakilerden hangisidir?

- A) II. Kılıç Arslan
B) II. Gıyaseddin Keyhüsrev
C) I. Kılıç Arslan
D) I. Alâeddin Keykubat

5. Hangi Haçlı Seferi sonunda Anadolu Selçuklu Devleti'nin başkenti İznik'ten Konya'ya taşınmıştır?

- A) I. B) II. C) III. D) IV.

6. • 1526 yılında Kuzey Hindistan ile Afganistan'da Türkler tarafından kurulmuştur.
• Agra'da dünyanın en güzel anıtlarından biri olan Taç Mahal onların zamanından günümüze kalmıştır.

Bu bilgiler aşağıdaki devletlerden hangisiyle ilgilidir?

- A) Akkoyunlular
C) Karakoyunlular
- B) Babürlüler
D) Timur Devleti

7. Osmanlıların papa önderliğinde oluşturulan Haçlı kuvvetlerine karşı kazandığı ilk savaş aşağıdakilerden hangisidir?

- A) I. Kosova
C) Sırp Sındığı
- B) Çirmen
D) Niğbolu

8. Ankara Savaşı sonrası aşağıdaki gelişmelerden hangisinin Bizans Devleti'nin yararına olduğu söylenemez?

- A) Balkanlardaki Türk ilerleyişinin durması
B) Çelebi Mehmet'in Fetret Devri'ne son vermesi
C) Anadolu beylerinin eski topraklarına kavuşması
D) Yıldırım Bayezit'in oğulları arasında taht kavgalarının başlaması

9. Anadolu Selçuklularındaki Lonca teşkilatının işlevlerinden bazıları şunlardır:

- Esnaf arasındaki meslekî dayanışmayı sağlaması
- Deneyimli eleman yetiştirilmesi
- Üretimin kalitesinin yükseltilmesi

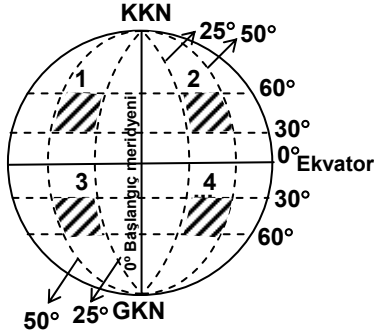
Buna göre, Lonca teşkilatı aşağıdaki alanlardan hangisiyle doğrudan ilgilidir?

- A) Yönetim
C) Bilim ve Sanat
- B) Ordu
D) Ekonomi

10. Aşağıdakilerden hangisi Ekvator'un özelliklerinden değildir?

- A) Kutup noktalarında birleşmesi
B) Dünya'yı iki eşit yarım küreye ayırması
C) En geniş paralel dairesi olması
D) 0° (Sıfır) başlangıç paraleli olması

11.



30° - 50°kuzey paralelleri ile 25° - 50° batı meridyenleri arasında yer alan bir ülke yukarıdaki şekilde taranarak gösterilen kaç numaralı alanda yer alır?

- A) 1 B) 2 C) 3 D) 4

12. Aşağıdaki uygulamalardan hangisi, Dünya üzerindeki doğal dengenin bozulmasında etkili olur?

- A) Millî park alanlarının oluşturulması
B) Canlı türlerinin koruma altına alınması
C) Ormanlık alanların tarım arazisine dönüştürülmesi
D) Fabrikalarda arıtma ünitelerinin yapılması

13. Aşağıdaki olaylardan hangisi, Türkiye'de nüfusun azalmasına neden olmaz?

- A) Trafik kazaları B) İç göçler
C) Çocuk ölümleri D) Doğal afetler

14. •Sanayi bitkisi dir

- En çok İç Anadolu Bölgesi'nde üretilir
•Sulanabilen yerlerde yetiştirilir

Bu özellikler hangi tarım ürününe aittir?

- A) Tütün B) Şeker pancarı
C) Pamuk D) Ayçiçeği

15. Aşağıdaki şehirlerden hangisinde demir-çelik fabrikası bulunmaz?

- A) İskenderun B) Karabük
C) Ereğli (Zonguldak) D) Yatağan

16. Marmara Bölgesi'nde nüfusun çok hızlı artmasında aşağıdakilerden hangisinin etkisi daha fazladır?

- A) Yeryüzü şekilleri B) İklim şartları
C) Ürün çeşitliliği D) Sanayi tesisleri

17. Ülkemizde, millet yönetim hakkını milletvekilleri aracılığı ile kullanır. Yönetenler, gücünü millettten alır. Hiçbir kimse zorla iş başına gelemez.

Bu esas, anayasamızda aşağıdakilerden hangisiyle ifade edilmiştir?

- A) Hiçbir ayırım olmaksızın herkes kanun önünde aynı haklara sahiptir.
B) Egemenlik kayıtsız şartsız milletindir.
C) Hiç kimseye din, dil, ırk, cinsiyet ve siyasi düşünceden dolayı farklı işlem yapılamaz.
D) Bütün siyasi partiler, demokratik ve laik cumhuriyet ilkelerine bağlıdır.

18. Eğitim, sağlık, seyahat gibi hakların kullanılabilmesi öncelikle aşağıdakilerden hangisine bağlıdır?

- A) Temel hak ve özgürlüklerin korunmasına
B) Kişi başına düşen ulusal gelirin artırılmasına
C) Yargının sağlıklı işleyişinin sağlanmasına
D) Yasama görevinin yerine getirilmesine

19. Aşağıdakilerden hangisi siyasi partilerin görev ve sorumluluklarıyla ilgili değildir?

- A) Faaliyetlerini, anayasaya ve ilgili kanun hükümlerine uygun olarak sürdürmeleri.
B) Ülke sorunları ile ilgili çözüm üretmeleri.
C) Üyelerinin çıkarlarını, halkın çıkarlarından üstün tutmaları.
D) Devletin ülkesi ve milletiyle bölünmez bütünlüğü ilkesine bağlı olmaları.

20. Aşağıdaki alışkanlıklarımızdan hangisi, toplumsal yaşam açısından diğerlerinden ayrılır?

- A) Erken yatıp erken kalkmak
B) Boş zamanlarını kitap okuyarak değerlendirmek
C) Dengeli ve sağlıklı beslenmek
D) Otobüs durağında sıraya girmek

DİN KÜLTÜRÜ VE AHLÂK BİLGİSİ DERSİNİ OKUYANLAR AŞAĞIDAKİ SORULARI CEVAPLAYACAKLAR. OKUMAYANLAR BUNUN YERİNE, AYNI NUMARALI SOSYAL BİLGİLER SORULARINI CEVAPLAYACAKLAR

DİN KÜLTÜRÜ VE AHLÂK BİLGİSİ DERSİNİ OKUMAYANLAR, AŞAĞIDAKİ SOSYAL BİLGİLER SORULARINA CEVAP VERECEKLER. OKUYANLAR CEVAP VERMEYECEK.

21. İbadet için yan yana bir araya gelen insanların amacı Allah'a karşı kulluk görevlerini yapmaktır. Bu kişiler hep birlikte Allah'ın huzuruna çıkıp dilekte bulunarak yanlışlarının bağışlanmasını isterler. Kişiler duygu ve gönül birliği içinde diğer insanlarla bütünleşerek aralarında sevgi ve kardeşlik duyguları gelişir.

Metinde öncelikli olarak anlatılmak istenen ibadet aşağıdakilerden hangisidir?

A) Oruç B) Kurban C) Zekat D) Namaz

22. Aşağıdaki namazlardan hangisine başlarken kamet getirilir?

A) Cuma namazına B) Bayram namazına
C) Vitr namazına D) Teravi namazına

23. Essalâtü hayrun minennevm "Namaz uykudan daha hayırlıdır." cümlesi aşağıdaki vakit namazlarından hangisinin ezanında okunur?

A) Yatsı B) Akşam C) İkinci D) Sabah

24. Aşağıda verilen davranışlardan hangisi namazı bozan bir davranış olarak kabul edilmez?

A) Namazda iken gülmek
B) Namaz kılarken esnemek
C) Kiblede başka yöne dönmek
D) Bir şeyler yemek, içmek

25. Aşağıdaki davranışlardan hangisi paylaşma ve yardımlaşmayı engellemez?

A) Kibirlik B) Kıskançlık
C) Cömertlik D) Cimrilik

21. Bizans İmparatorunun "Barış ancak Rey şehrinde olabilir" diyerek Alp Arslan'ın elçilerini geri çevirmesi aşağıdaki savaşlardan hangisine ortam hazırlamıştır?

A) Pasinler B) Köseadağ
C) Miryokefalon D) Malazgirt

22. Padişahlığı Segedin Antlaşmasından sonra oğlu Mehmet'e bırakıp, Varna Savaşı'nın çıkması üzerine tekrar ordunun başına geçen Osmanlı padişahı hangisidir?

A) II. Murat B) I. Murat
C) Mehmet Çelebi D) Yıldırım Bayezit

23. Çeliğin sertleştirilmesinde ve paslanmaz çelik üretiminde kullanılan maden aşağıdakilerden hangisidir?

A) Bor B) Bakır C) Civa D) Krom

24. Aşağıdaki coğrafi bölgelerden hangisinin yer yüzü şekilleri, kara yolu yapımını zorlaştırır?

A) İç Anadolu B) Doğu Anadolu
C) Marmara D) Güneydoğu Anadolu

25. • Devletin şeklini, hangi kuruluşlarla işlediğini, egemenliğin millete ait olduğunu ve bunun nasıl sağlanacağını belirtir.
• Vatandaşların, devlete ve birbirlerine karşı hak ve ödevlerindeki esasları gösterir.

Verilenlerle anlatılmak istenen aşağıdakilerden hangisidir?

A) Parlâmento B) Hükümet
C) Anayasa D) Demokrasi

TEST BİTTİ.
CEVAPLARINIZI KONTROL EDİNİZ.

Soracağınız bir şey var mı? Varsa şimdi sorunuz; sınav başladıktan sonra sorularınıza cevap verilmeyecektir. Hazır mısınız?

Sınav, okulun bütün salonlarında aynı anda başlayacağı için başlama zilini beraberce bekleyelim.

Hepinize başarılar dileriz.

(Salon başkanı başlama ve bitiş saatini tahtaya yazacaktır.)

Bu testin her hakkı saklıdır. Hangi amaçla olursa olsun, testlerin tamamının veya bir kısmının Millî Eğitim Bakanlığı Eğitim Teknolojileri Genel Müdürlüğünün yazılı izni olmadan kopya edilmesi, fotoğraflarının çekilmesi, bilgisayar ortamına alınması, herhangi bir yolla çoğaltılması, yayımlanması veya başka bir amaçla kullanılması yasaktır. Bu yasağa uymayanlar, doğabilecek cezaî sorumluluğu ve testlerin hazırlanmasındaki malî külfeti peşinen kabullenmiş sayılır.